



ESCOLA CLASSE IPÊ – SEEDF-CRE/NB – ENSINO FUNDAMENTAL

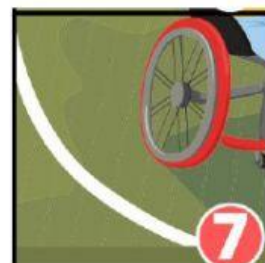
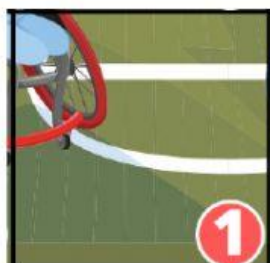
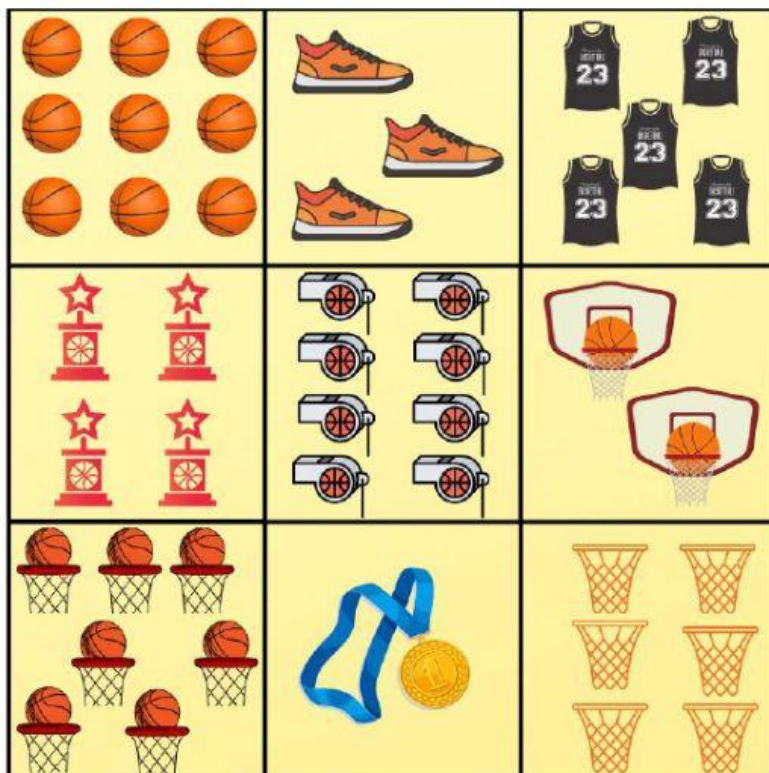
PROFESSORA: _____ TURMA: _____



EDUCANDO(A): _____

PARTE FLEXÍVEL – 21/09/2021


CONTE E DESCUBRA A QUANTIDADE DE CADA CONJUNTO. DEPOIS, LOCALIZE O NÚMERO E COLOQUE A IMAGEM COM O NÚMERO CORRESPONDENTE NO CONJUNTO CORRETO E DESCUBRA QUAL É A MODALIDADE PARALÍMPICA QUE VAI SURTIR.



SIGA AS SETAS E COMPLETE A SEQUÊNCIA NUMÉRICA COM OS NÚMEROS QUE ESTÃO FALTANDO.



DESCUBRA A PONTUAÇÃO DE CADA SELEÇÃO CONTANDO O TOTAL DE CESTAS DE CADA EQUIPE.



REGISTRE A QUANTIDADE DE PONTOS DE CADA SELEÇÃO:



11



11

QUAL SELEÇÃO MARCOU MAIS PONTOS?



10



7