

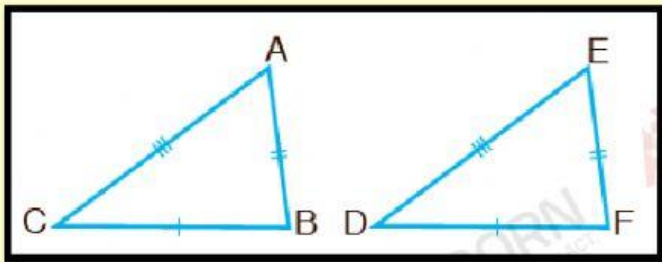
ชื่อ-สกุล..... ชั้น..... เลขที่.....



แบบฝึกทักษะที่ 5.2

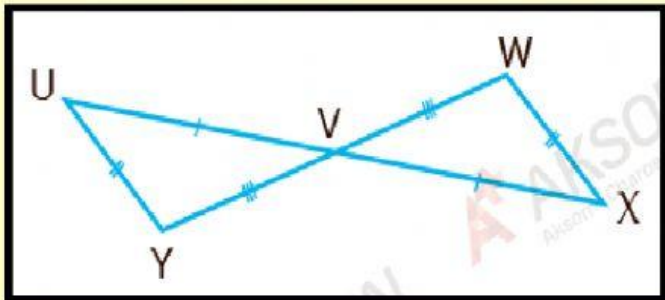
ความเท่ากันทุกประการของรูปสามเหลี่ยม

1. เมื่อรูปสามเหลี่ยมแต่ละคู่เท่ากันทุกประการ ให้เขียนด้านคู่ที่สมนัยกันและมุมคู่ที่สมนัยกัน



ด้านคู่ที่สมนัยกัน ได้แก่

มุมคู่ที่สมนัยกัน ได้แก่

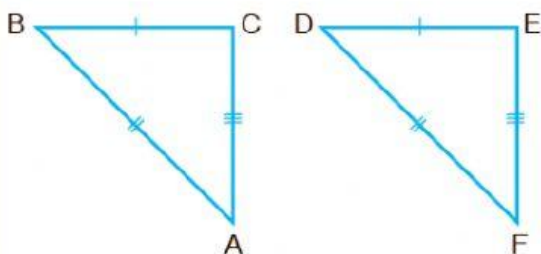


ด้านคู่ที่สมนัยกัน ได้แก่

มุมคู่ที่สมนัยกัน ได้แก่

2. จงเติมข้อความลงในช่องว่างให้ถูกต้อง

1) กำหนดให้ $\triangle ABC \cong \triangle FDE$



จุด A สมนัยกับ

จุด E สมนัยกับ

\overline{AB} สมนัยกับ

$\angle ACB$ สมนัยกับ

