

# LEMBAR KERJA PESERTA DIDIK



**KELAS IV**

**TEMA : NATURAL RESOURCES**

**NAMA :** \_\_\_\_\_

**KELAS :** \_\_\_\_\_

**TANGGAL PEMBERIAN PENUGASAN :**

**30 AGUSTUS 2021**

**TANGGAL PENGUMPULAN PENUGASAN :**


**4 SEPTEMBER 2021**

**MATERI POKOK**

**MENGELOMPOKKAN SEGI BANYAK DAN  
BUKAN SEGI BANYAK**



**Sebelum teman-teman sholih dan sholihah mengerjakan tantangan, silakan menonton video penjelasan materi pembelajaran hari ini!**



**A. Berilah tanda ceklis pada pernyataan yang tepat!**

1. Manakah pernyataan yang tepat sesuai dengan pengertian segi banyak?

**Segi banyak merupakan bangun datar terbuka yang dibatasi oleh ruas garis lurus.**



**Segi banyak merupakan bangun datar tertutup yang dibatasi oleh ruas garis lurus.**



2. Manakah yang merupakan syarat bangun datar dikatakan segi banyak? (Boleh memilih lebih dari satu jawaban)



**Sisinya terbuka**



**Ruas garis melengkung**



**Ruas garis lurus**



**Garis tidak menyilang**



**Terdapat garis menyilang**



**Sisinya tertutup**

**B. Jawablah pertanyaan berikut dengan tepat!**

1. Perhatikan gambar di samping!
- a. Apakah gambar di samping termasuk bangun datar segi banyak? \_\_\_\_\_.
- b. Jika iya, berapa banyak sisinya? \_\_\_\_\_.




2. Tuliskan 3 benda yang permukaannya memiliki bentuk segibanyak!

\_\_\_\_\_, \_\_\_\_\_, \_\_\_\_\_.

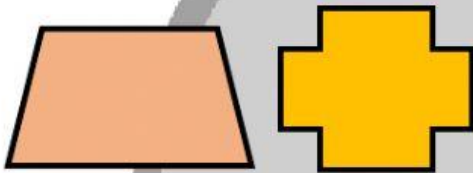


3. Perhatikan gambar berikut!



- a. Apakah bangun datar di samping termasuk bangun datar segi banyak? \_\_\_\_\_.
- b. Berikan alasanmu!
- \_\_\_\_\_
- \_\_\_\_\_

4. Perhatikan gambar berikut!



- a. Apakah bangun datar di samping termasuk bangun datar segi banyak? \_\_\_\_\_.
- b. Berikan alasanmu!
- \_\_\_\_\_
- \_\_\_\_\_

C. Lengkapi tabel berikut dengan memindahkan gambar bangun datar yang sesuai dengan kelompok “Segi Banyak” dan “Bukan Segi Banyak”.

NO	Segi Banyak	Bukan Segi Banyak
1.		
2.		
3.		
4.		

