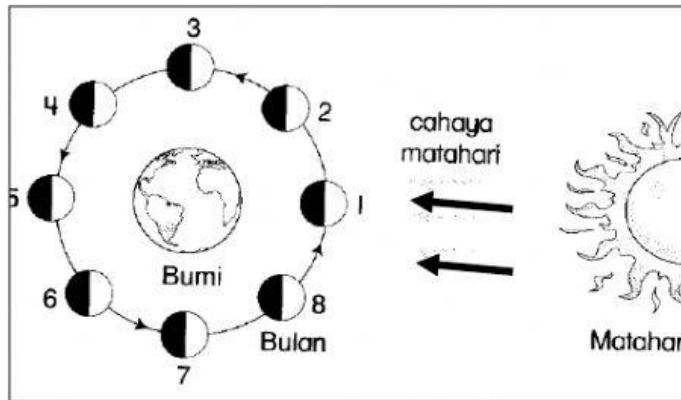







Jawab soalan berdasarkan rajah di bawah.



a) Tandakan (✓) bagi fenomena yang ditunjukkan dalam rajah di atas.

Gerhana bulan	<input type="checkbox"/>	Fasa bulan	<input checked="" type="checkbox"/>	Cahaya bulan	<input type="checkbox"/>
---------------	--------------------------	------------	-------------------------------------	--------------	--------------------------

b) Suaikan fasa betul kepada nama fasa bulan.

Fasa				
				
1	3	5	6	8

				
Bulan purnama	Bulan sabit	Anak bulan	Bulan separa	Bulan hampir purnama
Nama fasa bulan				