

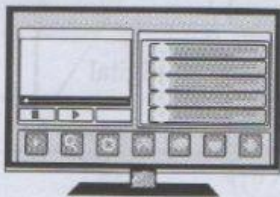
Arahan: Setiap soalan diikuti oleh empat pilihan jawapan, A, B, C dan D. Pilih jawapan yang betul.

1. Antara alatan berikut, yang manakah mempunyai atur cara komputer?

A



B



C



D



2. Apakah maksud atur cara komputer?

A Satu langkah untuk menyelesaikan tugas harian.

B Satu set arahan mengikut urutan yang mengarahkan komputer membuat sesuatu.

C Satu panduan bagi menulis atur cara komputer yang sebenar.

D Satu proses membangunkan atur cara komputer melalui pengekodan.

3. Apakah jenis komputer yang terdapat dalam perkakasan harian?

A Komputer atas meja

B Komputer tablet

C Komputer tangan

D Komputer benam

4. Antara alatan perkakasan harian berikut, yang manakah tidak mempunyai atur cara komputer?

A



B



C



D



5. Rajah 1 menunjukkan ikon yang terdapat dalam telefon pintar.



Rajah 1

Apakah kegunaan atur cara komputer bagi ikon tersebut?

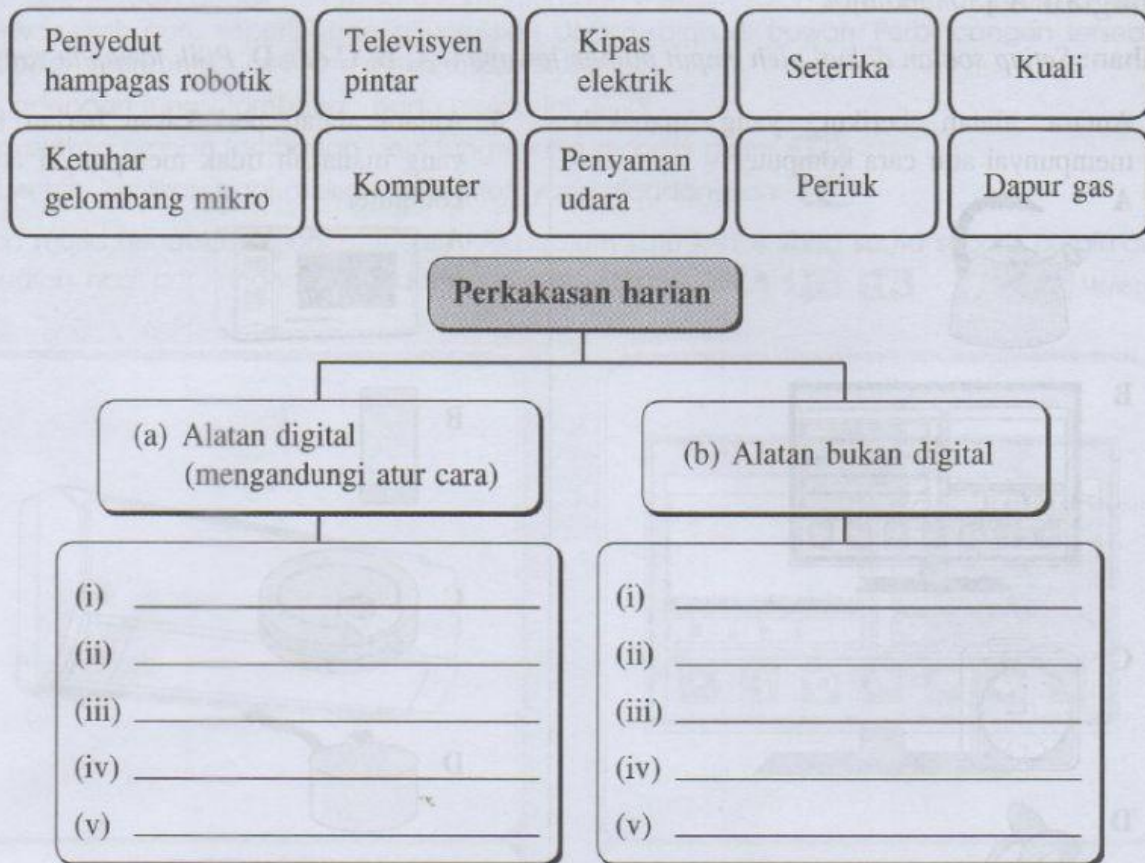
A Atur cara yang membolehkan sistem menentukan suhu telefon pintar.

B Atur cara yang membolehkan sistem membunyikan penggera dengan pelbagai bunyi.

C Atur cara yang membolehkan sistem berhubung antara satu sama lain dengan menggunakan gelombang radio.

D Atur cara yang membolehkan sistem menyimpan nombor telefon.



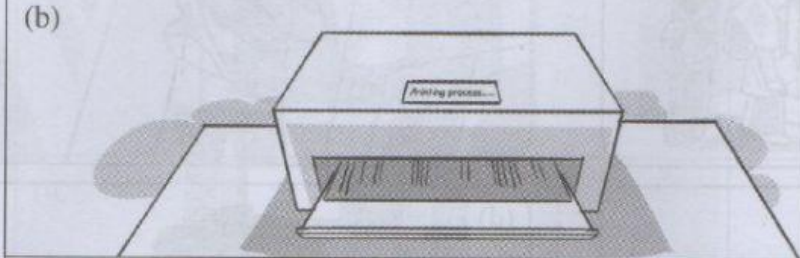

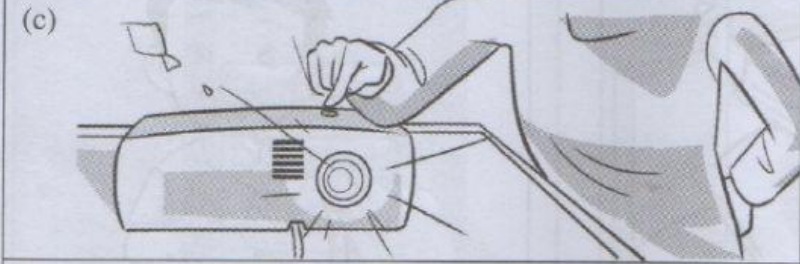







1. Lengkapkan peta pokok di bawah dengan menyatakan sama ada alatan di bawah adalah alatan digital atau alatan bukan digital.



2. Padankan sama ada pernyataan di bawah menunjukkan aktiviti harian atau suatu alatan digital.

<p>(a) Aktiviti harian ●</p>	<ul style="list-style-type: none"> ● Beratur di luar kelas sebelum bergerak ke makmal komputer.
<p>(b) Alatan digital ●</p>	<ul style="list-style-type: none"> ● Menghidupkan komputer bagi menyiapkan tugas yang diberikan oleh guru. ● Pencetak mula mencetak setelah menerima arahan daripada komputer. ● Arahan daripada tetikus dan papan kekunci diterima dan dilaksanakan. ● Kembali ke kelas setelah tamat masa untuk mata pelajaran TMK.

3. Nyatakan sama ada contoh di bawah menunjukkan aktiviti harian atau merupakan set arahan.

Contoh	Aktiviti harian/Set arahan
<p>(a)</p> 	
<p>(b)</p> 	
<p>(c)</p> 	
<p>(d)</p> 	
<p>(e)</p> 	
<p>(f)</p> 	

4. Berdasarkan rajah di bawah, susun semula mengikut urutan yang betul untuk menunjukkan aktiviti harian.

