






แผนภูมิรูปภาพแสดงจำนวนนมรสต่างๆ ที่นักเรียนในห้องชอบดื่ม

รสเช็อกโกแลต	
รสสตอเบอร์รี่	
รสวานิลลา	
รสจืด	
รสโกโก้	

(กำหนดให้รูปกล่องนม 1 รูป แทนจำนวนนม 2 กล่อง)

คำถาม ??

1. นักเรียนชอบดื่มนมรสโกโก้มากกว่านมรสวานิลลาจำนวนเท่าใด

2. นมรสใดที่นักเรียนชอบดื่มมากที่สุดและน้อยที่สุด เป็นจำนวนเท่าใดตามลำดับ

3. นมรสใดที่มีนักเรียนชอบดื่มจำนวน 12 คน

4. นมรสใดที่นักเรียนชอบดื่มในจำนวนที่เท่ากัน และเป็นจำนวนเท่าใด

5. มีนักเรียนในห้องทั้งหมดกี่คน