



Họ tên _____
 Lớp _____

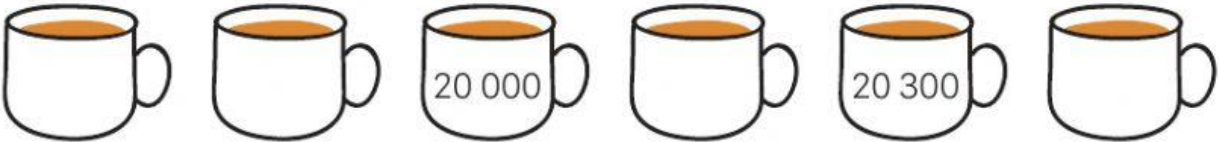
1.1.1

ÔN TẬP: SỐ CÓ 5 CHỮ SỐ

Bài 1. Điền số thích hợp vào ô trống.

a. 

b. 

c. 

Bài 2. Hoàn thành bảng bên dưới.

Viết số	Chục nghìn	Nghìn	Trăm	Chục	Đơn vị	Đọc số
23 456	2	4	Hai mươi ba nghìn bốn trăm năm mươi sáu
.....	Ba mươi nghìn hai trăm năm mươi lăm
12 010
45 005
.....	5	5	4	4	4

Bài 3 (Thử thách phụ). Ngày xưa ngày xưa có một ông vua thích đếm. Mỗi sáng thức dậy, việc đầu tiên nhà vua làm là đếm những đồng vàng. "Một, hai, ba..." nhà vua đếm rồi lại đếm. Nhưng nhà vua có quá nhiều đồng vàng, mà đếm như vậy mỗi ngày thì không cách nào đếm được hết tiền, nên nhà thông thái đề xuất một cách:

- Cứ đủ 10 đồng vàng thì cho vào 1 túi;
- Cứ đủ 10 túi thì cho vào 1 hộp;
- Cứ đủ 10 hộp thì cho vào 1 hòm;
- Cứ đủ 10 hòm thì xây 1 kho để đặt hòm;

Như vậy, nếu nhà vua có 1 kho, 2 hòm, 3 hộp, 4 túi và 5 đồng vàng thì nhà vua có tất cả 12 345 đồng vàng.

- a.** Nếu nhà vua có 3 túi và 7 đồng vàng thì nhà vua có tất cả đồng vàng.
- b.** Nếu nhà vua có 4 hòm, 2 túi và 5 đồng vàng thì nhà vua có tất cả đồng vàng.
- c.** Nếu nhà vua có 6 hòm, 9 hộp, 2 túi và 7 đồng vàng thì nhà vua có tất cả đồng vàng.
- d.** Nếu nhà vua có 5 kho, 2 hộp và 4 đồng vàng thì nhà vua có tất cả đồng vàng.
- e.** Nếu nhà vua có 4 kho, 8 hộp và 6 túi đựng đồng vàng thì nhà vua có tất cả đồng vàng.