

Name: _____

Date: _____

Jenis Magnet

Padankan jenis magnet dengan gambar yang betul.

magnet bar

magnet U

magnet silinder

magnet butang











magnet ladam

magnet cincin



Tertarik atau Tak Tertarik

Adakah objek-objek berikut tertarik kepada magnet?
Tuliskan tertarik atau tidak tertarik

	→	<input type="text"/>	←	
	→	<input type="text"/>	←	
	→	<input type="text"/>	←	
	→	<input type="text"/>	←	
	→	<input type="text"/>	←	

Pengelasan Bahan Magnet dan Bahan Bukan Magnet

Bahan magnet ialah objek yang boleh tertarik kepada magnet.

Bahan bukan magnet ialah objek yang tidak tertarik kepada magnet.

Kelaskan objek berikut ke dalam kumpulan yang betul

