

PEMERINTAH KABUPATEN LUWU TIMUR
DINAS PENDIDIKAN
SDN 264 WAWONDULA

Jl. Gunung Agung No. 01 Wawondula, Kec. Towuti

PENILAIAN TENGAH SEMESTER (PTS)

Tahun Pelajaran : 2021/2022

Kelas / Semester : 1 / 1	Nama :
Tema : 1 (Diriku)	Nomor Absen :
Waktu : 120 Menit	Tanggal : 07 September 2021

1. Sebelum berangkat ke sekolah, Siti memberi _____ kepada orang tuanya.

A.3,2/5



2. Yang dilakukan keluarga Siti sebelum makan adalah _____

A.3,2/6



3. Setelah melukis, tangan dan kaki Udin kotor sekali.
Beri tanda √ pada gambar yang sesuai.

A.3,2/4



4. Kita semua memiliki perbedaan, tapi perbedaan itu harus kita ...

A.3,3/1



- A. syukuri
B. benci
C. hindari

5. Berdasarkan bacaan pada halaman 125, kesukaan anggota keluarga Beni berbeda-beda.

A.3,3/4

Ibu senang membaca _____

6. Pasangkan nama-nama di bawah ini dengan huruf depan yang sesuai.

B.3,3/9

siti	•	•	b
beni	•	•	d
udin	•	•	e
dayu	•	•	l
edo	•	•	s
lani	•	•	u

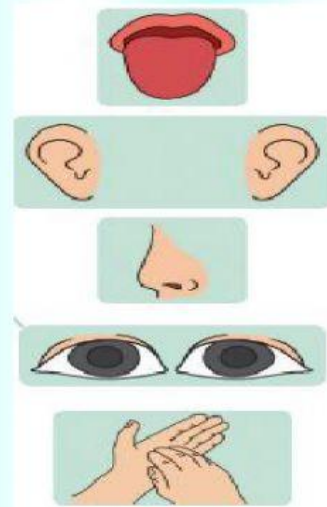
B.3,9/4

7. Pada saat berkenalan, kita harus menyebut _____

8. Pasangkan nama-nama pancaindra dengan gambar yang sesuai.

B.3,4/4

hidung	•	•
mata	•	•
telinga	•	•
kulit	•	•
lidah	•	•



9. Salah satu cara merawat tubuh seperti gambar berikut adalah _____

B.3,4/5



10. Berilah tanda ✓ pada posisi yang tepat saat menulis, memegang pensil dan cara duduk yang tepat pada gambar berikut.

B.3,2/6

Menulis dengan posisi duduk yang benar.



Memegang pensil yang benar.




Meletakkan buku dengan tepat.



11.

B.3,3/5


Susun huruf-huruf berikut menjadi kata yang tepat.



e m n y i y a n

↓


m e n y a n y i



n a r o k

↓

k n



u k u b

↓

b u

12. Lagu berikut bercerita tentang seorang _____

B.3,11/7

Sahabat untuk Selamanya

Dua tiga kapal berlayar di samudra

Ayo sahabatku kita bergembira

Bermain bernyanyi bersama

Menikmati indahnya dunia


Sahabat...untuk selamanya

Bersama untuk selamanya

Kau dan aku sahabat

Untuk selamanya






Selama-lamanya.... setia








13.

C.3,1/4

Temukan pasangan gambar yang sama banyak.









• • • • •









14. Hitunglah banyak benda berikut, kemudian tuliskan lambang bilangannya.


C.3,2/6












 LIVEWORKSHEETS

15.

Pasangkan banyak jari dengan angka.

C.3,1/15

	<input type="radio"/> 1
	<input type="radio"/> 2
	<input type="radio"/> 3
	<input type="radio"/> 4
	<input type="radio"/> 5
	<input type="radio"/> 6
	<input checked="" type="radio"/> 7
	<input type="radio"/> 8
	<input type="radio"/> 9
	<input type="radio"/> 10

Beri tanda centang (✓) pada lambang bilangan yang sesuai.

 <input type="radio"/> 1 <input type="radio"/> 3 <input type="radio"/> 2	 <input type="radio"/> 4 <input type="radio"/> 5 <input type="radio"/> 6
 <input type="radio"/> 3 <input type="radio"/> 5 <input type="radio"/> 2	 <input type="radio"/> 7 <input type="radio"/> 6 <input type="radio"/> 9
 <input type="radio"/> 5 <input type="radio"/> 7 <input type="radio"/> 8	 <input type="radio"/> 4 <input type="radio"/> 6 <input type="radio"/> 8

16.

Tuliskan lambang bilangan yang sesuai dengan namanya.

C.3,2/5

delapan	<input type="text" value="8"/>
tiga	<input type="text"/>
lima	<input type="text"/>
sepuluh	<input type="text"/>
enam	<input type="text"/>
satu	<input type="text"/>

17. Pilihlah kata "lebih dari" atau "kurang dari" untuk soal berikut.

C.3,3/8

1 _____ 5	5 _____ 7
4 _____ 2	8 _____ 10
3 _____ 4	9 _____ 7
6 _____ 8	6 _____ 9

18.

C.3,3/6

Lengkapi urutan bilangan berikut.


1. 2, 3, 4, , , 7, 8

2. 10, 9, , , 6, 5

3. 5, 6, 7, , , 10

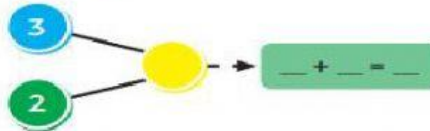
19.

C.3,4/4



Di pohon pertama tumbuh 3 pepaya.







Di pohon yang kedua tumbuh 2 pepaya.







Banyak pepaya seluruhnya ada buah.

20. Hitunglah benda berikut dan tuliskan hasilnya pada kotak yang tersedia.

C.3,4/5

	+		=	<input type="text"/>
	+		=	<input type="text"/>
	+		=	<input type="text"/>

	+		=	<input type="text"/>
	+		=	<input type="text"/>

21. Judul lagu berikut adalah _____

F.3,2/4

Siapa Namamu?

Ciptaan A.T. Mahmud

1	2	3	4	5	6	7	8	9	10
Sia	pa	ka	h	na	ma	mu			
5	4	3	2	1	3	3	1	1	1
Na	ma	ku	Si	ti					(sebutkan namamu)

F.3,3/6

22. Gambar berikut Lani dan teman-teman sedang _____



23. Gambar berikut adalah melukis dengan _____

F.3,1/4



24. Bahan alam yang digunakan untuk membuat kerajinan berikut adalah dari kulit _____

F.3,4/6



25. Gerakan yang dilakukan Lani dan teman-teman pada gambar berikut adalah mereka sedang ...

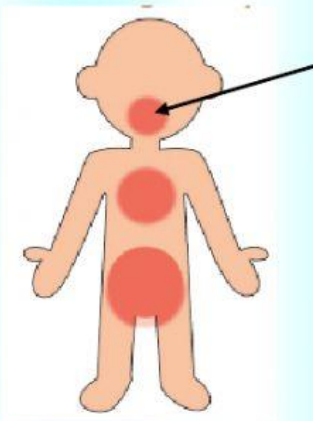
A'.3,1/1



- A. Berlari
- B. Berjalan
- C. berlomba

26. Amati gambar tubuh bagian depan berikut. Gambar yang diberi panah adalah bagian tubuh yang tidak boleh disentuh oleh orang lain. Bagian tubuh tersebut adalah _____

A'.3,8/5



27. Urutkanlah cara mencuci baju yang benar.

A'.3,8/5



28. Dalam meniti balok, tubuh kita harus _____

A'.3,4/8

