


Sección Primaria
Prueba Trimestral de Ciencias Naturales.



Nombre: _____ Grado: 1° A-B
Fecha: _____ Valor: 30 pts.

1. Une con una línea el significado de las tres R (10 pts.)

Reducir es darle un nuevo uso a los objetos que ya ocupamos.

Reutilizar es fabricar nuevos productos usando materiales obtenidos de otros desechos

Reciclar Es disminuir la cantidad de productos y recursos que utilizamos.

2. Escribe una D si es un animal doméstico y una S, si es un animal silvestre.



3. Coloca gancho, cuál es el hábitat del pez y cuál es el hábitat de la libélula.



Aéreo terrestre







Acuático



Aéreo terrestre

Acuático

4. Escribe el nombre de los fenómenos atmosféricos donde corresponda (6 pts.)

5. Escribe V dentro del cuadro si es verdadero, y F si es falso (5 pts.)

_____ Utilizar las 4 erres es una práctica de impacto positivo en el ambiente.

_____ Botar la basura en los ríos es una práctica que impacta de forma negativa al ambiente.

_____ Cortar los árboles es un impacto positivo al ambiente.

_____ Cuidar los animales es responsabilidad de los adultos.

_____ Al andar de paseo, guardar la basura que generamos y botarla hasta llegar a casa es una práctica que cuida el ambiente.

6. Selecciona las características del tiempo atmosférico(3 pts.)

Temperatura Tornado Viento Lluvioso Precipitaciones.

7. Completa la palabras que hacen falta(6 pts.)

A. El ambiente donde se encuentran los seres vivos se llama:

B. Los animales que viven en la tierra pero se desplazan por el aire son:

C. Los que viven tanto en el agua como en la tierra se llaman:
