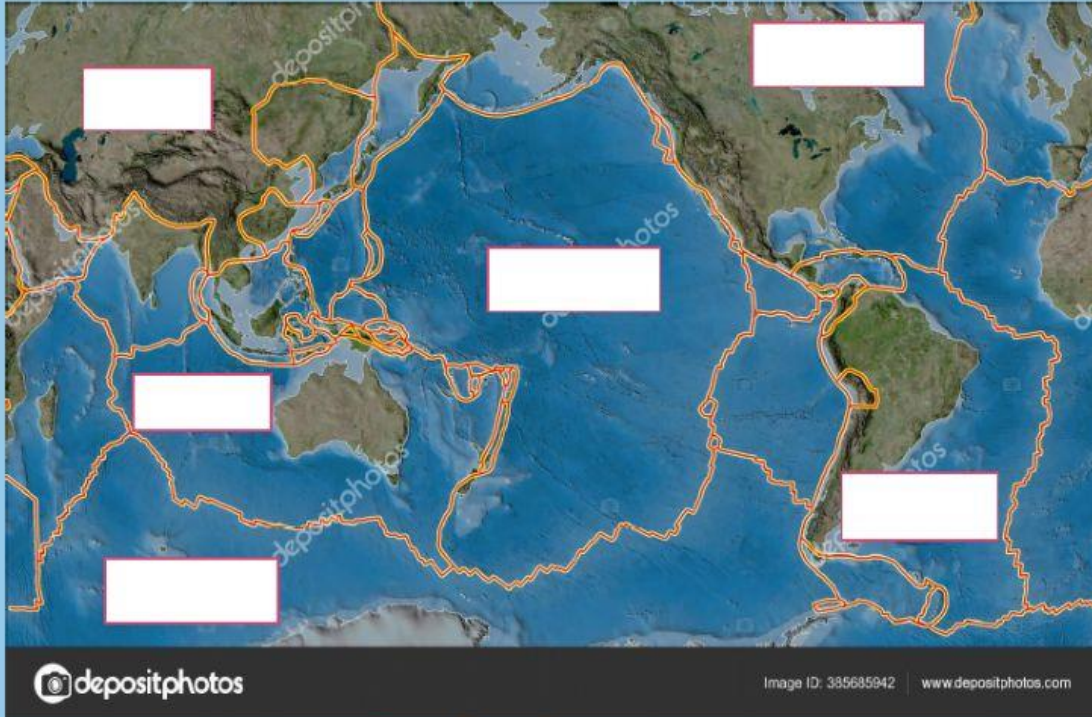


POST TEST 2

KARAKTERISTIK WILAYAH INDONESIA DAN PERKEMBANGAN SERTA JALUR PELAYARAN INTERNASIONAL DI INDONESIA

1. Soal menarik jawaban yang benar
TARIKLAH NAMA LEMPENG YANG TEPAT KE PETA YANG TERSEDIA



TARIK DAN TEMPATKAN DIPETA NAMA NAMA LEMPENG DIBAWAH INI

INDOAUSTRALIA

ANTARTIC

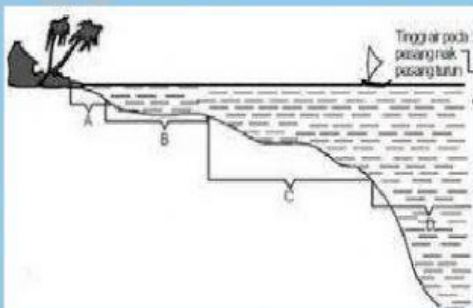
EURASIA

AMERIKA UTARA

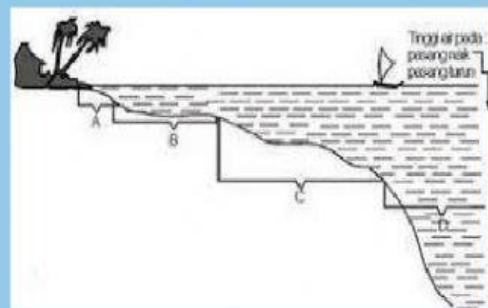
PASIFIK

AMERIKA SELATAN

2. KARAKTERISTIK WILAYAH LAUT INDONESIA BERDASARKAN KEDALAMANNYA TERBAGI MENJADI 4 ZONA BERIKUT INI...

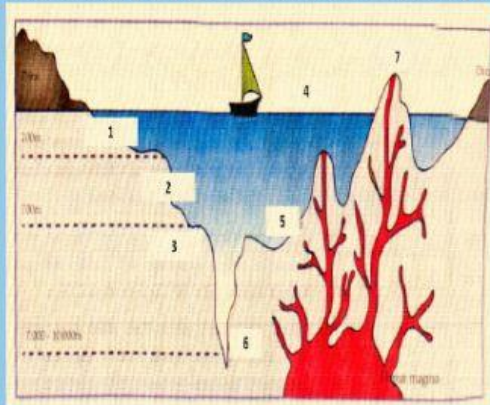


GAMBAR B MENUNJUKAN ZONA

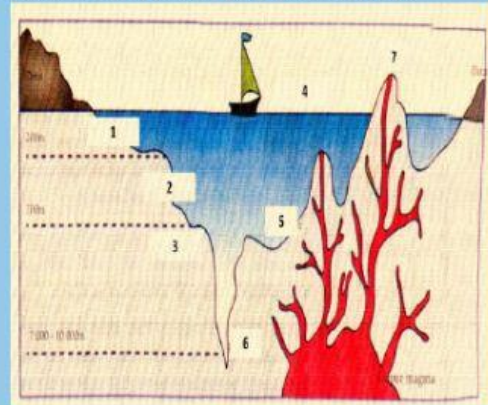


GAMBAR C MENUNJUKAN ZONA

3. WILAYAH LAUT INDONESIA DIBAGI 2 WILAYAH LAUT DANGKAL DAN WILAYAH LAUT DALAM. WILAYAH LAUT DANGKAL DIBEDAKAN MENJADI 2 YAITU DANGKALAN SUNDA DAN DANGKALAN SAHUL. DANGKALAN / PAPARAN TERDAPAT BENTUKAN DASAR LAUTNYA



PALUNG LAUT DI TUNJUKAN PADA NO



GUNUNG LAUT DITUNJUKAN PADA NO

4. WILAYAH PERAIRAN LAUT INDONESIA BERDASARKAN POSISINYA TERHADAP DARATAN BERIKUT INI PSANGKAN DENGAN PENJELASANNYA



SELAT



TELUK



LAUT

5. PERHATIKAN JALUR ALKI WILAYAH INDONESIA BERIKUT INI



ALKI I

ALKI II

ALKI III

6. PAPARAN YANG MENGHUBUNGKAN ANTARA PULAU SUMATRA, PULAU JAWA, PULAU KALIMANTAN, BANGKA BELITUNG, DAN DATARAN ASIA ADALAH

- A. PAPARAN SUNDA
- B. PAPARAN SAHUL
- C. PAPARAN ARAFURU
- D. PAPARAN LAUT DALAM
- E. PAPARAN SUNDA DAN SAHUL

7. BERIKUT YANG BUKAN MERUPAKAN TUJUAN DARI PROGRAM TOL LAUT INDONESIA ADALAH
- A. MEMANFAATKAN SEMAKSIMAL MUNGKIN KEKAYAAN SUMBER DAYA KELAUTAN DAN PERIKANAN
 - B. MENINGKATKAN KESEJAHTERAAN MASYARAKAT YANG SULIT MENDAPATKAN AKSES TERHADAP PEMBANGUNAN
 - C. MENEKAN KETIMPANGAN HARGA SEMBAKO ANTAR PULAU JAWA DAN LUAR PULAU JAWA
 - D. PEMERATAAN DISTRIBUSI KEKAYAAN SUMBER DAYA ALAM
 - E. PROSES PEMANFAATAN SUMBER DAYA KELAUTAN TIDAK MENIMBULKAN KERUSAKAN
8. HAL- HAL YANG MENDUKUNG DALAM PEMBUATAN TOL LAUT, KECUALI
- A. PELABUHAN LAUT YANG HANDAL
 - B. KECUKUPAN MUATAN BARANG
 - C. PELAYARAN YANG RUTIN DAN TERJADWAL
 - D. MEMILIKI AKSES YANG BAIK TERHADAP DARATAN
 - E. MEMANFAATKAN SUMBER DAYA PERIKANAN
9. WILAYAH LAUT INDONESIA YANG TERLETAK PADA SISI LUAR GARIS PANGKAL SEJAUH 12 MIL LAUT DISEBUT
- A. LAUT NUSANTARA
 - B. LAUT TERITORIAL
 - C. LAUT KONTINET
 - D. LAUT LEPAS
 - E. ZEE

10. HUBUNGANLAH ZONASI LAUT DENGAN PENGERTIANNYA BERIKUT INI

LAUT TERITORIAL

LAUT YANG DITARIK SELEBAR TIDAK
LEBIH DARI 200 MIL DARI GARIS PANGKAL

LAUT KONTINENT

SEMUA BAGIAN LAUT YANG TIDAK
TERMASUK DALAM ZEE DALAM LAUT
TERITORIAL

ZEE

LAUT YANG TERLETAK PADA SISI LUAR
GARIS PANGKAL DAN TIDAK MELEBIHI
DARI 12 MIL LAUT

LAUT LEPAS

LAUT YANG DIUKUR MULAI DARI GARIS
DASAR PANTAI KE ARAH LUAR SEJAUH
200 MIL