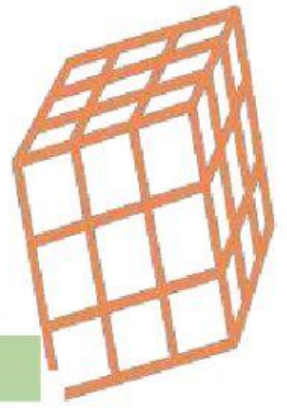


666



ชื่อ..... ชั้น..... เลขที่.....

หาคำตอบของสมการต่อไปนี้ โดยวิธีลองแทนค่าตัวแปร

1. $2 + p = -8$

2. $q + 3 = 25$

3. $3r = -180$

4. $8 - s = 7$

5. $\frac{t}{6} = -6$

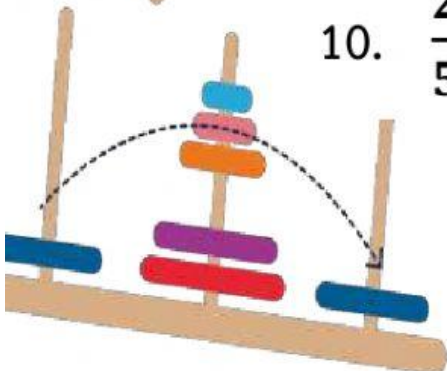
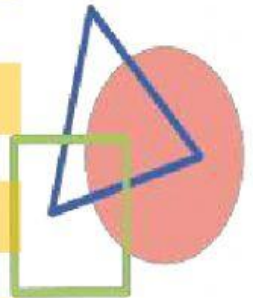
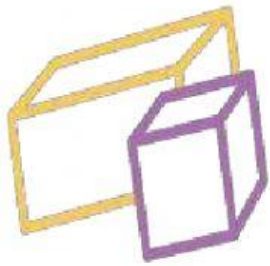
6. $\frac{4}{a} = 8$

7. $3b = -1$

8. $c - 8 = 0$

9. $d - 5 = d$

10. $\frac{2}{5}x = 60$



23