





BERBEZA TAPI SERUPA

Arahan :

Kenal pasti bahagian-bahagian yang terdapat pada tumbuhan di bawah. Tandakan / pada petak yang sesuai dan tandakan X pada yang salah.

Bahagian-bahagian tumbuhan				
Batang berkayu	/	X	/	X
Batang tidak berkayu				
Berbunga				

BERBEZA TAPI SERUPA

Tidak berbunga	X	/	/	X
Daun urat selari				
Daun urat jejala				
Akar serabut				
Akar tunjang				

BERBEZA TAPI SERUPA

Arahan: Tulis persamaan antara tumbuhan berikut.

1.



POKOK JAGUNG

1. URAT DAUN _____

2. BATANG TIDAK BERKAYU



POKOK PADI

1. URAT DAUN _____

2. BATANG TIDAK BERKAYU

BERBEZA TAPI SERUPA

2. .



POKOK BUNGA RAYA

1. ADA BUNGA

2. BATANG _____



POKOK BUNGA RAYA

1. ADA BUNGA

2. BATANG _____

BERBEZA TAPI SERUPA

Arahan: Tarik jawapan yang betul.

Tunjang

berkayu

Selari

Raya

1. Ini pokok Bunga _____.
2. Pokok ini mempunyai batang _____.
3. Akar pokok ini jenis akar _____.
4. Pokok ini mempunyai urat daun _____.

