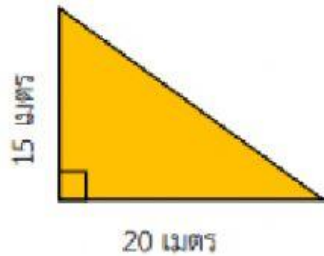


แบบฝึกทักษะที่ 2

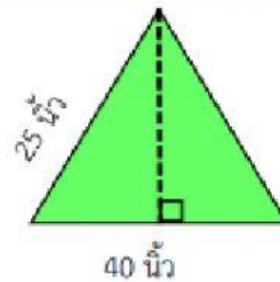
คำชี้แจง ให้นักเรียนหาพื้นที่ของรูปเรขาคณิตที่กำหนดให้ต่อไปนี้ (10 คะแนน)
จุดประสงค์การเรียนรู้ หาพื้นที่ของรูปเรขาคณิตได้

1.



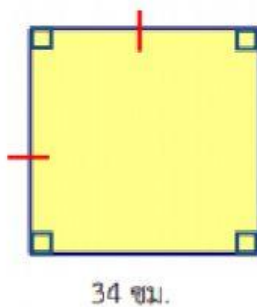
ตอบ

2.



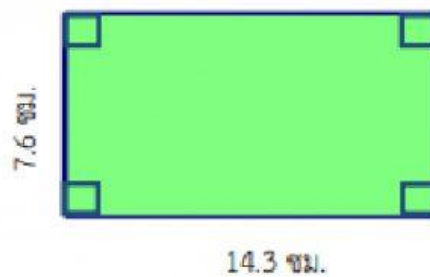
ตอบ

3.



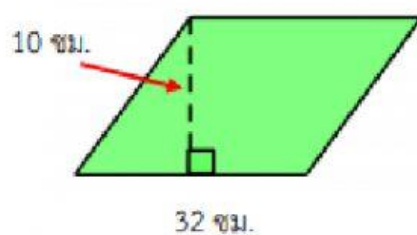
ตอบ

4.



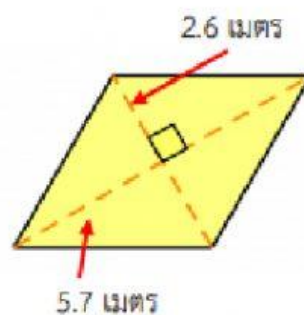
ตอบ

5.



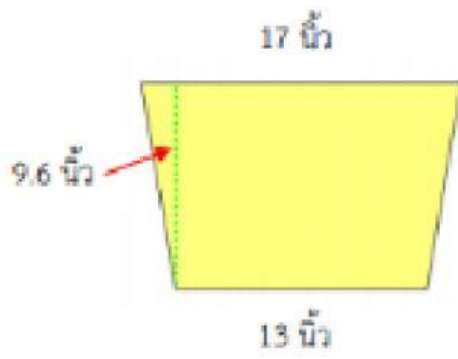
ตอบ

6.



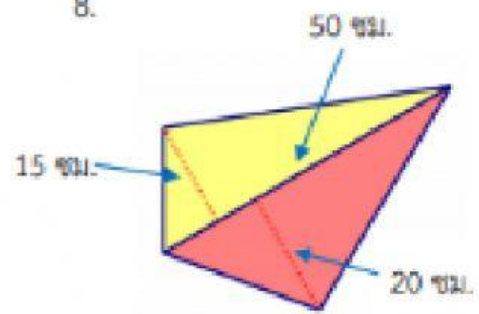
ตอบ

7.



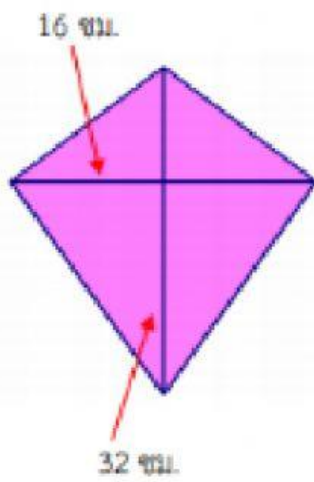
ตอบ

8.



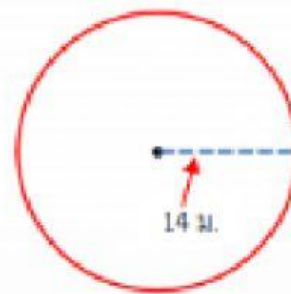
ตอบ

9.



ตอบ

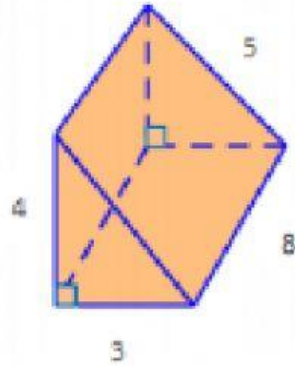
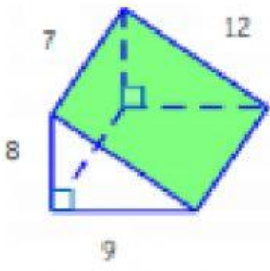
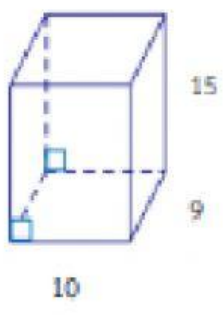
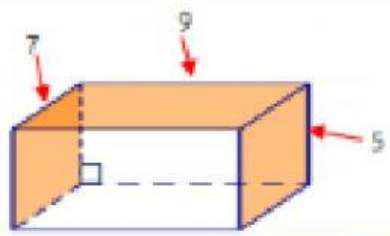
10.



ตอบ

แบบฝึกทักษะที่ 5

คำชี้แจง จงเติมคำตอบลงในตารางให้ถูกต้อง (15 คะแนน)
จุดประสงค์การเรียนรู้ หาพื้นที่ผิวของปริซึมได้

ข้อ	รูปปริซึม	พื้นที่ฐาน (ตารางหน่วย)	พื้นที่ผิวข้าง (ตารางหน่วย)	พื้นที่ผิว (ตารางหน่วย)
1.				
2.				
3.				
4.				

ชื่อ-สกุล..... ห้อง.....เลขที่.....