




SD DARUL HIKAM BANDUNG
LKS Menyelesaikan Soal Cerita
Kelas III Tahun Pelajaran 2021-2022

Mata Pelajaran : Tematik (Tema 1)
Nama :
Kelas :



Simak video berikut ini!



Contoh :

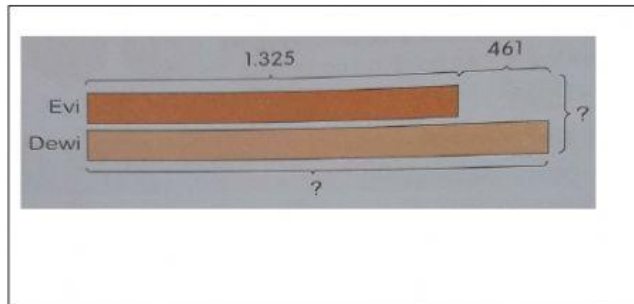
Evi dan Dewi berjualan kue mangkuk.

Evi menjual 1.325 kue mangkuk dan Dewi menjual 461 kue mangkuk lebih banyak daripada Evi.

- Berapa banyak kue mangkuk yang di jual Dewi ?
- Berapa banyak kue mangkuk yang mereka jual seluruhnya?

Jawab :

Model :



a. $1.325 + 461 = 1.786$

Dewi menjual 1.786 kue

b. $1.325 + 1.786 = 3.111$

Mereka menjual 3.111 kue mangkuk seluruhnya

Selesaikan soal cerita berikut ini !

1. Di atas sebuah kapal feri terdapat 747 penumpang Wanita.
Ada 595 penumpang pria lebih banyak daripada penumpang Wanita di atas kapal tersebut.

- a. Berapa banyak penumpang pria di atas kapal feri?
b. Berapa banyak penumpang seluruhnya di atas kapal feri?

Jawab :

a =
Ada penumpang pria di atas kapal feri.

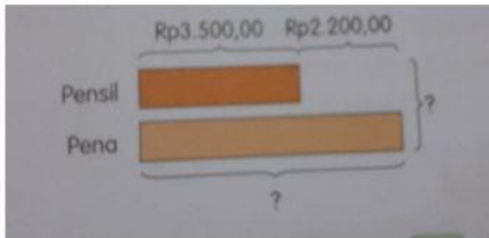
b =
Ada penumpang di atas kapal feri.

2. Harga sebuah pensil Rp3500,00

Harga sebuah pena lebih mahal dari pensil Rp2.200,00

Berapa harga pensil dan pena?

Jawab :



Rp_____ + Rp_____ = _____

Harga Pena Rp_____

Rp_____ + Rp_____ = _____

Harga pensil dan pena Rp_____

3. Bob memiliki 2.468 stiker

Harry memiliki 2.072 stiker lebih banyak dari Bob.

Berapa Banyak stiker yang mereka miliki seluruhnya?

Jawab :

Stiker Harry _____ + _____ = _____

Stiker seluruhnya _____ + _____ = _____

4. Ada 3.768 siswa perempuan di sebuah sekolah.

Ada 1.457 siswa laki-laki lebih banyak dari siswa perempuan di sekolah tersebut.

Berapa Jumlah siswa di sekolah tersebut?

Jawab

Siswa laki-laki _____ + _____ = _____

Siswa seluruhnya _____ + _____ = _____

5. Melati menabung Rp1.525,00

Gita menabung Rp2.075,00 lebih banyak dari Melati.

Berapa jumlah tabungan mereka seluruhnya?

_____ + _____ = _____

Tabungan Gita _____

Tabungan mereka seluruhnya _____ + _____ = _____

SELAMAT BEKERJA

اَلْحَمْدُ لِلّٰهِ رَبِّ الْعٰلَمِيْنَ