


## EVALUACIÓN DE MATEMÁTICA

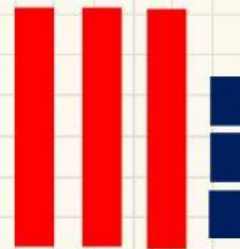


### 1. Relaciona con flechas el número y su representación gráfica.


3 8




1 5



3 3



4 0



### 2. Lee y escribe los números.

• treinta y cinco

• veintiocho

• cuarenta

## EVALUACIÓN DE MATEMÁTICA

- veinticinco
- treinta y nueve
- treinta
- treinta y uno
- veintisiete

4. Arrastra y ordena los números de menor a mayor.

35

11

27

8

30

23

3. Arrastra y ordena los números de mayor a menor.

20

38

14

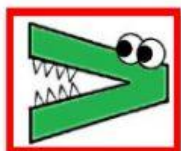
25

10

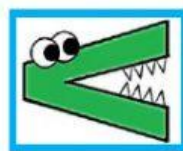

32

## EVALUACIÓN DE MATEMÁTICA

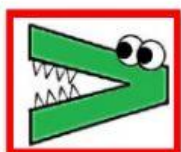
5. Compara los siguientes números arrastrando el signo que le corresponde.




25



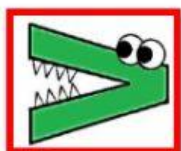
30




37



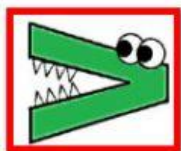
27



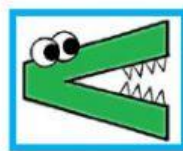

29



19



32



21