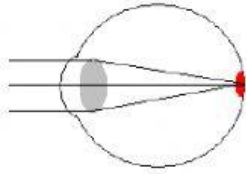
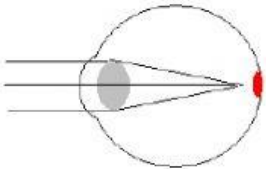


ชื่อ ..... ชั้น ..... เลขที่ ....

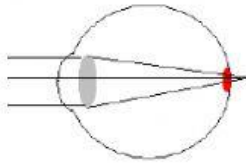
### จงโยงเส้นจับคู่ให้ถูกต้อง



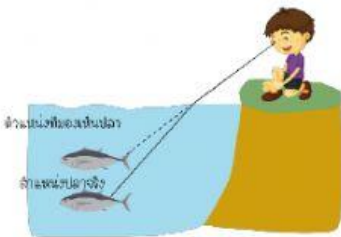
สายตาวาว



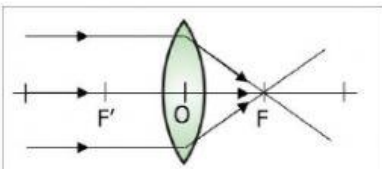
การหักเหของแสง



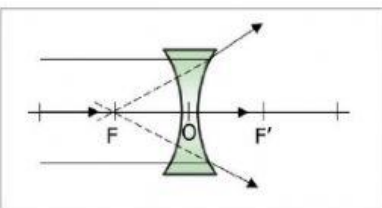
เลนส์เว้า



สายตาสั้น



สายตาสั้น



การสะท้อนของแสง



เลนส์นูน