




Asignatura: Matemática
Docentes: Ivonne Alvarado
Mirna Godoy.

Puntaje Ideal: 38 pts

Ptje.
Obtenido

Porcentaje

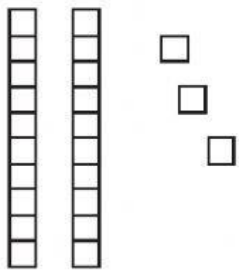
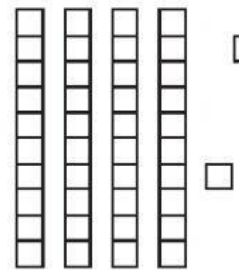
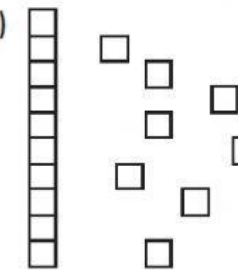
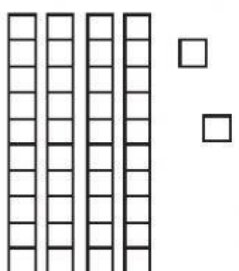
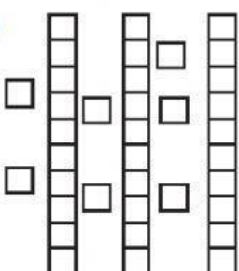
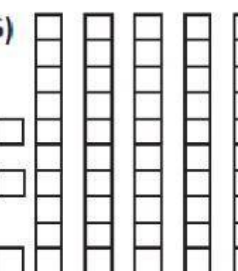


Evaluación de Matemática Diseño 4: "Números hasta el 100"


Objetivos:

OA 1 Contar números naturales del 0 al 100, de 1 en 1, de 2 en 2, de 5 en 5 y de 10 en 10, hacia delante y hacia atrás, empezando por cualquier número menor que 100.

1) Cuenta las decenas y unidades, escribe el número que representa en el recuadro.

1) 	2) 	3) 
<input type="text"/>	<input type="text"/>	<input type="text"/>
4) 	5) 	6) 
<input type="text"/>	<input type="text"/>	<input type="text"/>

2) Completa las siguientes secuencias numéricas según corresponda.



- Contando de 10 en 10









3) Escribe el número que va antes de.

- a) ____ 67
- b) ____ 21
- c) ____ 10
- d) ____ 97
- e) ____ 48

4) Escribe que va después de.

- f) 16 ____
- g) 88 ____
- h) 53 ____
- i) 37 ____
- j) 54 ____

5) Une cada número con su representación y su descomposición aditiva.

<div>42</div>		<div>2D+9U</div>
<div>51</div>		<div>4D+2U</div>
<div>13</div>		<div>9D+8U</div>
<div>29</div>		<div>7D+5U</div>
<div>98</div>		<div>5D+1U</div>
<div>75</div>		<div>1D+3U</div>