


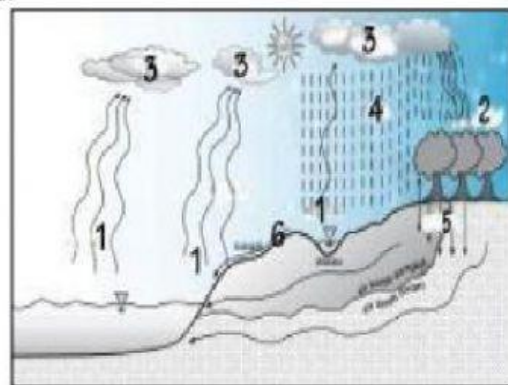
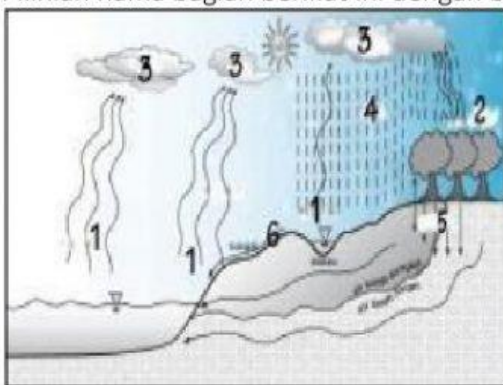
1. Perhatikan dan cermati video materi pembelajaran berikut ini



2. “Gempa berkekuatan 7.2 SR yang mengguncang kepulauan Mentawai Sumatera Barat 2010 mengakibatkan terjadi tsunami. Karena lokasinya jauh dari daratan Sumatera mengakibatkan pemerintah, relawan dan pihak terkait sulit untuk menyalurkan bantuan.”

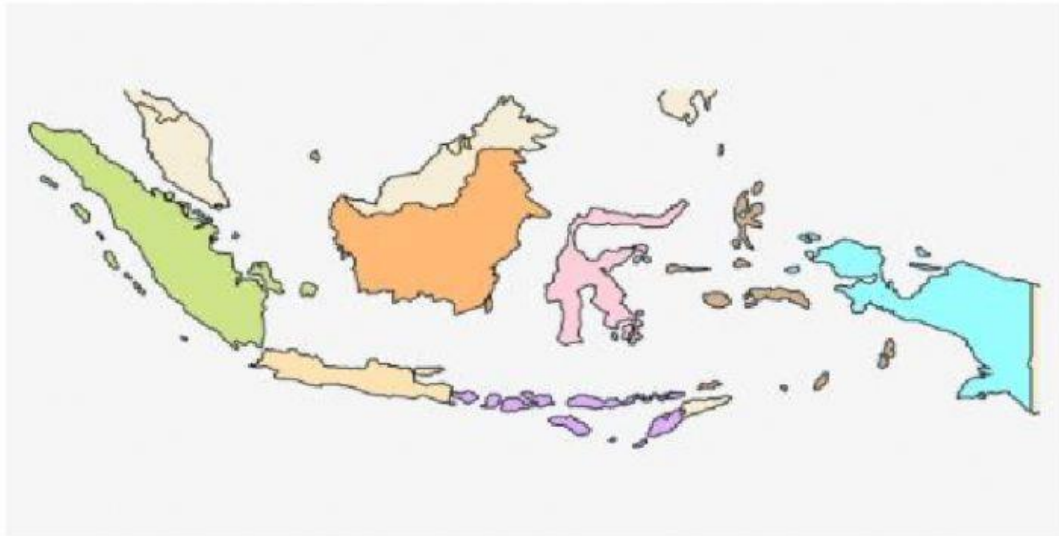
Konsep geografi yang digunakan untuk memahami fenomena tersebut adalah...

- a. Konsep aglomerasi
 - b. Konsep keterjangkauan
 - c. Konsep interaksi dan interdependensi
 - d. Konsep diferensiasi araea
 - e. Konsep keterkaiatan ruang
3. Pilihlah nama bagian berikut ini dengan benar



Nama bagian no 4 adalah

4. Soal menarik jawaban yang benar



MEDAN

MAKASAR

BALI

BANDUNG

PONTIANAK

SURABAYA

PALEMBANG

SORONG

5. Soal menghubungkan garis jawaban

Hubungkanlah dengan menggunakan garis jawaban yang benar

Lapisan udara yang menyelimuti bumi

Antroposfer

Lapisan air yang menyelimuti bumi

Atmosfer

Lapisan batuan / lapisan kulit bumi

Biosfer

Lapisan flora dan fauna yang ada di bumi

Hidrosfer

Lapisan tanah yang terdapat di bumi

Litosfer

Lapisan manusia yang terdapat di bumi

Pedosfer