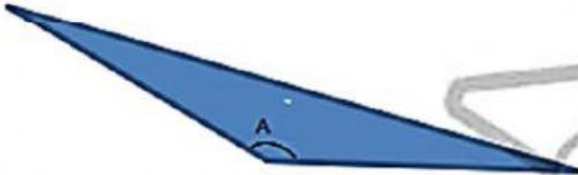


1) 直线叫作?

- A 顶点
- B 角
- C 直边

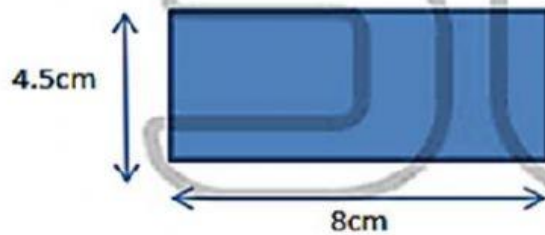
2)



上图显示一个三角形。A角是什么角?

- A 锐角
- B 钝角
- C 尖角

3)



上图显示一个长方形。长方形的周长是多少 cm?

- A 20
- B 25
- C 30
- D 35

4)



上图显示一个等边三角形。等边三角形的周长是多少 cm?

- A 19.5
- B 20.5
- C 30.5
- D 35.5

5) 一个三角形的周长是 25cm, 其中两边的长度是 8cm, 另外一条边是多少 cm?

A 7

C 9

B 8

D 10

6)



上图显示一个正方形。正方形的周长是 24cm, 正方形的面积是多少?

A 12

C 28

B 24

D 36

7)



上图显示一个长方形。长方形的周长是 36cm, 长方形的面积是多少  $\text{cm}^2$ ?

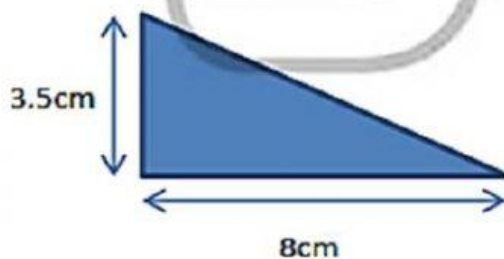
A 28

C 45

B 33

D 56

8)



上图显示一等边三角形。三角形的面积周长是多少?

A 14

C 28

B 25

D 30