

LEMBAR KERJA PESERTA DIDIK

TEMA 3 MAKANAN SEHAT

SUB TEMA 1 BAGAIMANA TUBUH MENGOLAH MAKANAN

NAMA :

KELAS :

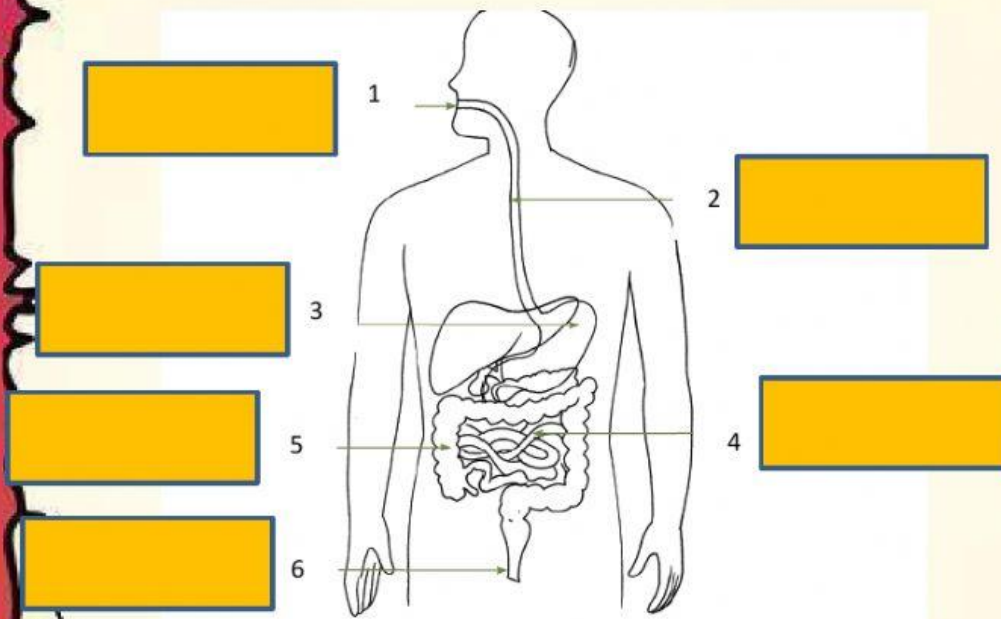
UPTD SD NEGERI 01 TAEH BUKIK

KECAMATAN PAYAKUMBUH KAB. LIMA PULUH KOTA



KEGIATAN 1

Lengkapilah kolom sistem pencernaan di bawah ini !



Usus halus

kerongkongan

Usus besar

Lambung

Mulut

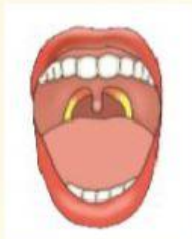
Anus



KEGIATAN 2

Tuliskan fungsi organ-organ pencernaan manusia di bawah ini!

Gambar 1

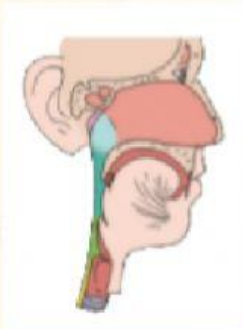


Fungsi :

.....

.....

Gambar 2



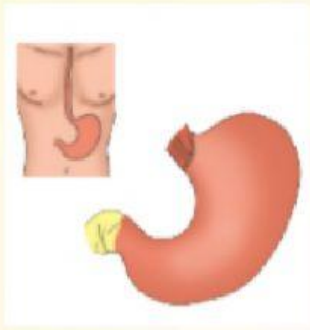
Fungsi :

.....

.....



Gambar 3

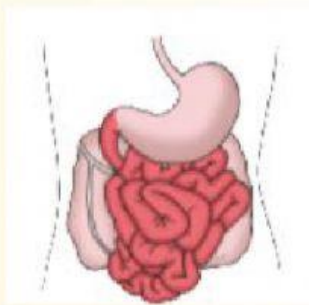


Fungsi :.....

.....

.....

Gambar 4



Fungsi :.....

.....

.....

Gambar 5



Fungsi :.....

.....

.....



KEGIATAN 4



Isilah kolom berikut berdasarkan iklan yang telah kamu amati !

Simpulkanlah isi dalam iklan tersebut berdasarkan :

1. Kata kunci
2. Gambar iklan
3. Target iklan (ditunjukan untuk siapa)

Menurutku iklan tersebut di atas.....

.....

Menurutku iklan ini efektif/tidak efektif karena

Untuk membuat iklan yang lebih baik aku akan

.....

Apakah fungsi iklan di atas.....

.....



