



แบบฝึกหัดที่ 1
เรื่อง ไขมันและน้ำมัน

ชื่อ-สกุล

เลขที่

ชั้น

1. จงเลือกคำตอบให้ถูกต้อง จากสารที่กำหนดให้ว่าเป็นสารประกอบไฮโดรคาร์บอนหรือไม่ใช่สารประกอบไฮโดรคาร์บอน

HCl

C₅H₁₂

C₄H₉NH

CH₄

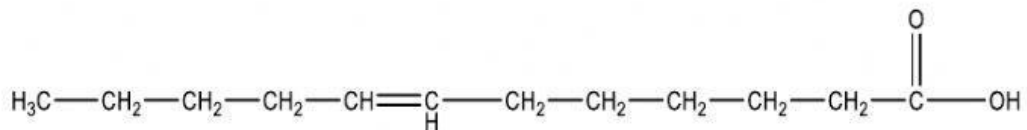
CH₃OCH₃

CH₃OH

CH₃CH₂

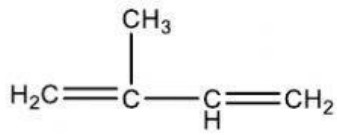
C₆H₆

2. กรดไขมันที่กำหนดให้เป็นกรดไขมันอิ่มตัวหรือไม่อิ่มตัว เพราะเหตุใด

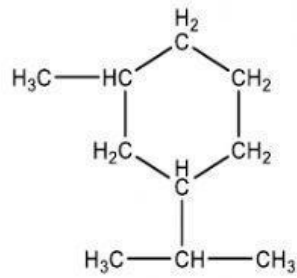


หน้าต่อไป

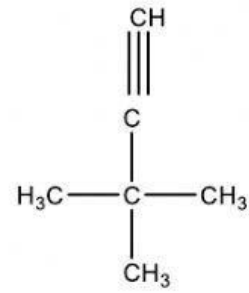
3. จงเลือกคำตอบให้ถูกต้อง ว่าสาร x y และ z ว่าเป็นสารประกอบไฮโดรคาร์บอนอิ่มตัวหรือไม่อิ่มตัว



สาร x



สาร y



สาร z

