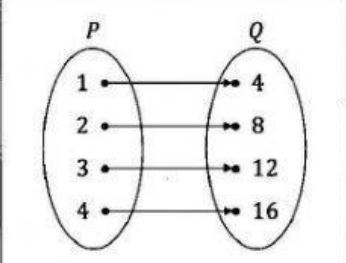
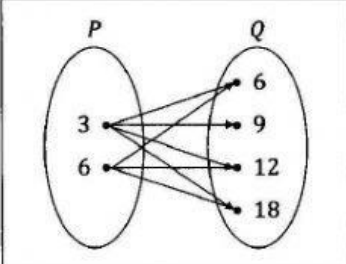
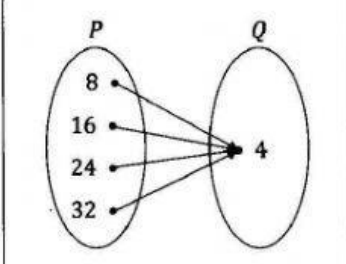


PBD TINGKATAN 2
 BAB 8 : GRAF FUNGSI

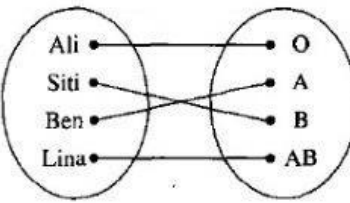
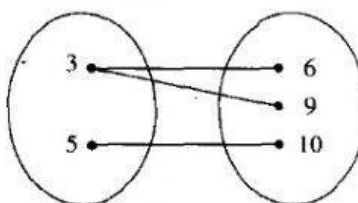
NAMA :TARIKH :

(TP1 BAB 8 T2)

1. Padankan jenis hubungan antara set P dan set Q.

	•	Satu kepada satu
	•	banyak kepada satu
	•	Banyak kepada banyak

2. Nyatakan jenis hubungan bagi setiap rajah yang berikut.

<p>a</p> <div style="text-align: center;"> <p>Kumpulan darah</p>  <p>Fungsi/Bukan</p> </div>	<p>b</p> <div style="text-align: center;"> <p>Gandaan</p>  <p>Fungsi/Bukan</p> </div>
---	---