



LKPD KELAS 5 A

TEMA 2

SUB TEMA 1


Nama Lengkap:

No. Absensi :


Tema 2 Udara Bersih Bagi Kesehatan
Pembelajaran 2 - 4

Saksikan video
berikut ini....!


Pembelajaran 2



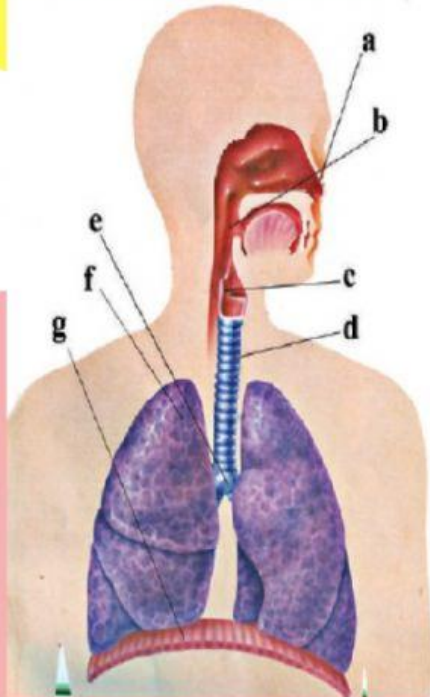
Pembelajaran 3



Pembelajaran 4



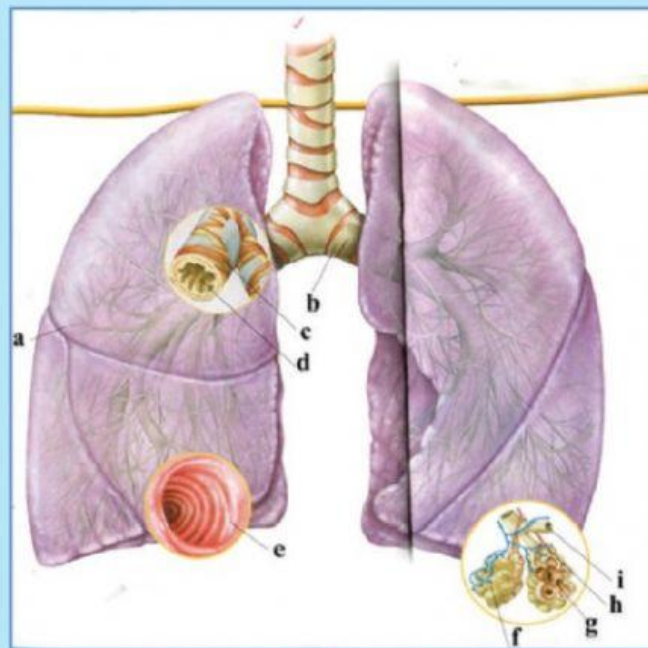
Sistem Pernapasan Pada Manusia



Keterangan gambar

a :	
b :	
c :	
d :	
e :	
f :	
g :	

Paru-paru Pada Manusia



Sumber: 100 Pengetahuan tentang Tubuh Manusia; Steve Parker; Pakar Raya 2007

Paru-paru

Keterangan gambar:

a :		e :	
b :		f :	
c :		g :	
d :		h :	
		i :	

Jawablah pertanyaan dan Lengkapi Kalimat Berikut dengan Kata Tanya yang tepat !

1. yang dibutuhkan untuk mendapatkan energi dari makanan ?

Jawab:

2. tempat terjadinya pertukaran oksigen dan karbondioksida?

Jawab:

3. di dalam rongga hidung terdapat rambut-rambut pendek dan tebal ?

Jawab:

4. cara udara masuk ke dalam tubuh manusia?

Jawab:

5. udara pernapasan yang masuk ke dalam tubuh pertama kali disaring?

Jawab:

Sekarang Asep dan teman-teman mau mencoba latihan mengisi soal dengan cara memberi tanda Ceklis (✓) pada contoh kegiatan ekonomi di bidang agraris. Dan beri tanda silang (X) yang bukan kegiatan ekonomi dalam bidang agraris. Mari kita coba ya....!

Menanam padi	Membuat baju
<input checked="" type="checkbox"/>	<input type="checkbox"/>
Menggali logam mulia	Menanam Umbi
<input type="checkbox"/>	<input type="checkbox"/>
Memelihara kambing	Berkebun
<input type="checkbox"/>	<input type="checkbox"/>
Membuat makanan	Menanam kedelai
<input type="checkbox"/>	<input type="checkbox"/>
Menanam Singkong	Pembuatan mebel
<input type="checkbox"/>	<input type="checkbox"/>
Memproduksi baju	Menanam sayur
<input type="checkbox"/>	<input type="checkbox"/>
Budi daya Ikan mas	Pengadaan Kayu Jati
<input type="checkbox"/>	<input type="checkbox"/>

Jenis-Jenis Tanggung Jawab

Tariklah garis untuk memasangkan soal dan jawabannya!

Menuntut kesadaran sebagai individu untuk menyeimbangkan antara kewajiban yang harus dilaksanakan dan hak yang diterimanya.

Sebagai makhluk sosial, manusia saling membutuhkan, maka dari itu harus menjaga segala tingkah laku dan perbuatan.

Setiap orang yang tinggal di sebuah negara terikat oleh aturan dan norma yang berlaku di negara tersebut.

Seluruh anggota keluarga saling melindungi satu sama lain dengan tujuan meningkatkan keselamatan dan kesejahteraan keluarga.

KELUARGA

NEGARA

MASYARAKAT

DIRI SENDIRI

Ayo, Membuat Kalimat Tanya!



Kamu akan mencoba membuat kalimat tanya agar memahami teks berikut. Ayo, kamu baca teks berikut dengan cermat, ya!

Salah satu ciri makhluk hidup adalah bernapas. Bernapas adalah pertukaran gas. Bernapas adalah menghirup oksigen (O_2) dan mengeluarkan karbon dioksida (CO_2) dan uap air (H_2O) dari dalam tubuh melalui alat-alat pernapasan. Makhluk hidup bernapas setiap saat. Oksigen dibutuhkan oleh makhluk hidup sebagai bahan bakar metabolisme sel di dalam tubuh. Proses pernapasan secara umum terjadi di dalam organ pernapasan makhluk hidup, misalnya manusia menggunakan hidung, tenggorokan, dan paru-paru sebagai alat pernapasan.

Buatlah kalimat dengan kata tanya (apa, siapa, dimana, kapan, dan mengapa) sesuai dengan jawaban yang tersedia !

-
Jawaban: hidung, tenggorokan, dan paru-paru sebagai alat pernapasan
-
Jawaban: setiap saat
-
Jawaban: proses bernapas adalah menghirup oksigen dan mengeluarkan karbondioksida dan uap air
-
Jawaban : proses pernapasan terjadi di dalam organ pernapasan