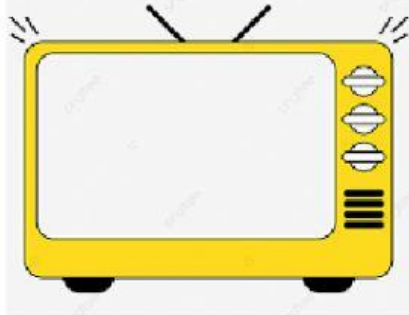



PRÉ I

UNIDADE ESCOLAR: ESCOLA MUNICIPAL PRESIDENTE CASTELO BRANCO



AGORA VAMOS FAZER UMA ATIVIDADE BEM LEGAL COM UM TRAVA-
LÍNGUA QUE VIMOS?


CONTE QUANTOS RATOS TEM EM CADA CONJUNTO, MARQUE O NÚMERO
CORRESPONDENTE NO QUADRO AO LADO.



1 2
3 4



1 3
2 4



1 2
3 4