


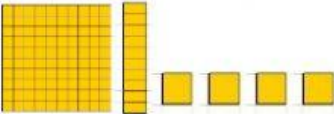
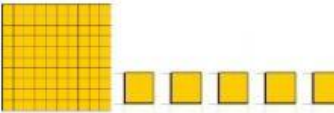
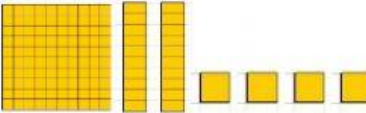


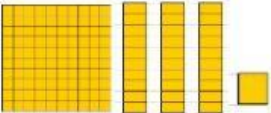

ESCOLA CLASSE 08 DE BRAZLÂNDIA

PROFESSORA: \_\_\_\_\_

DATA: 17/08/2021

ALUNO (A): \_\_\_\_\_

1- COMPLETE O QUADRO:

	NUMERAL	ESCRITA POR EXTENSO (NOME DO NUMERAL)
		
		
		
		
		
		
		
		

2- OBSERVE AS PEÇAS DO MATERIAL DOURADO PARA COMPLETAR O Q.V.L. DEPOIS, DECOMPONHA O NUMERAL:

 <table border="1" style="width: 100%; margin-top: 10px;"> <thead> <tr> <th style="width: 33%;">CENTENAS</th> <th style="width: 33%;">DEZENAS</th> <th style="width: 33%;">UNIDADES</th> </tr> </thead> <tbody> <tr> <td style="height: 30px;"></td> <td></td> <td></td> </tr> </tbody> </table> <p style="margin-top: 10px;">_____ + _____ = _____</p>	CENTENAS	DEZENAS	UNIDADES				 <table border="1" style="width: 100%; margin-top: 10px;"> <thead> <tr> <th style="width: 33%;">CENTENAS</th> <th style="width: 33%;">DEZENAS</th> <th style="width: 33%;">UNIDADES</th> </tr> </thead> <tbody> <tr> <td style="height: 30px;"></td> <td></td> <td></td> </tr> </tbody> </table> <p style="margin-top: 10px;">_____ + _____ + _____ = _____</p>	CENTENAS	DEZENAS	UNIDADES			
CENTENAS	DEZENAS	UNIDADES											
CENTENAS	DEZENAS	UNIDADES											
 <table border="1" style="width: 100%; margin-top: 10px;"> <thead> <tr> <th style="width: 33%;">CENTENAS</th> <th style="width: 33%;">DEZENAS</th> <th style="width: 33%;">UNIDADES</th> </tr> </thead> <tbody> <tr> <td style="height: 30px;"></td> <td></td> <td></td> </tr> </tbody> </table> <p style="margin-top: 10px;">_____ + _____ + _____ = _____</p>	CENTENAS	DEZENAS	UNIDADES				 <table border="1" style="width: 100%; margin-top: 10px;"> <thead> <tr> <th style="width: 33%;">CENTENAS</th> <th style="width: 33%;">DEZENAS</th> <th style="width: 33%;">UNIDADES</th> </tr> </thead> <tbody> <tr> <td style="height: 30px;"></td> <td></td> <td></td> </tr> </tbody> </table> <p style="margin-top: 10px;">_____ + _____ + _____ = _____</p>	CENTENAS	DEZENAS	UNIDADES			
CENTENAS	DEZENAS	UNIDADES											
CENTENAS	DEZENAS	UNIDADES											
 <table border="1" style="width: 100%; margin-top: 10px;"> <thead> <tr> <th style="width: 33%;">CENTENAS</th> <th style="width: 33%;">DEZENAS</th> <th style="width: 33%;">UNIDADES</th> </tr> </thead> <tbody> <tr> <td style="height: 30px;"></td> <td></td> <td></td> </tr> </tbody> </table> <p style="margin-top: 10px;">_____ + _____ + _____ = _____</p>	CENTENAS	DEZENAS	UNIDADES				 <table border="1" style="width: 100%; margin-top: 10px;"> <thead> <tr> <th style="width: 33%;">CENTENAS</th> <th style="width: 33%;">DEZENAS</th> <th style="width: 33%;">UNIDADES</th> </tr> </thead> <tbody> <tr> <td style="height: 30px;"></td> <td></td> <td></td> </tr> </tbody> </table> <p style="margin-top: 10px;">_____ + _____ + _____ = _____</p>	CENTENAS	DEZENAS	UNIDADES			
CENTENAS	DEZENAS	UNIDADES											
CENTENAS	DEZENAS	UNIDADES											
 <table border="1" style="width: 100%; margin-top: 10px;"> <thead> <tr> <th style="width: 33%;">CENTENAS</th> <th style="width: 33%;">DEZENAS</th> <th style="width: 33%;">UNIDADES</th> </tr> </thead> <tbody> <tr> <td style="height: 30px;"></td> <td></td> <td></td> </tr> </tbody> </table> <p style="margin-top: 10px;">_____ + _____ + _____ = _____</p>	CENTENAS	DEZENAS	UNIDADES				 <table border="1" style="width: 100%; margin-top: 10px;"> <thead> <tr> <th style="width: 33%;">CENTENAS</th> <th style="width: 33%;">DEZENAS</th> <th style="width: 33%;">UNIDADES</th> </tr> </thead> <tbody> <tr> <td style="height: 30px;"></td> <td></td> <td></td> </tr> </tbody> </table> <p style="margin-top: 10px;">_____ + _____ + _____ = _____</p>	CENTENAS	DEZENAS	UNIDADES			
CENTENAS	DEZENAS	UNIDADES											
CENTENAS	DEZENAS	UNIDADES											

3- COMPLETE A SEQUÊNCIA: (SE VOCÊ ACHAR DIFÍCIL FAZER NA PLATAFORMA, FAÇA NO CADERNO E ADICIONA A FOTO NOS ANEXOS):

100									
110									
120									
130									
140									
150									
160									
170									
180									
190									

4- DÊ O ANTECESSOR E O SUCESSOR DOS NUMERAIS:

	105	
--	-----	--

	85	
--	----	--

	126	
--	-----	--

	183	
--	-----	--

	93	
--	----	--

	139	
--	-----	--

	70	
--	----	--

	150	
--	-----	--

	189	
--	-----	--

	169	
--	-----	--

	60	
--	----	--

	19	
--	----	--

### DESAFIO

UM FEIRANTE VENDEU EM UM DIA 1 CENTENA DE FRUTAS. QUANTAS FRUTAS ELE VENDEU?