

LKPD

SISTEM PERKEMBANGBIAKAN TUMBUHAN PAKU, LUMUT, DAN HEWAN

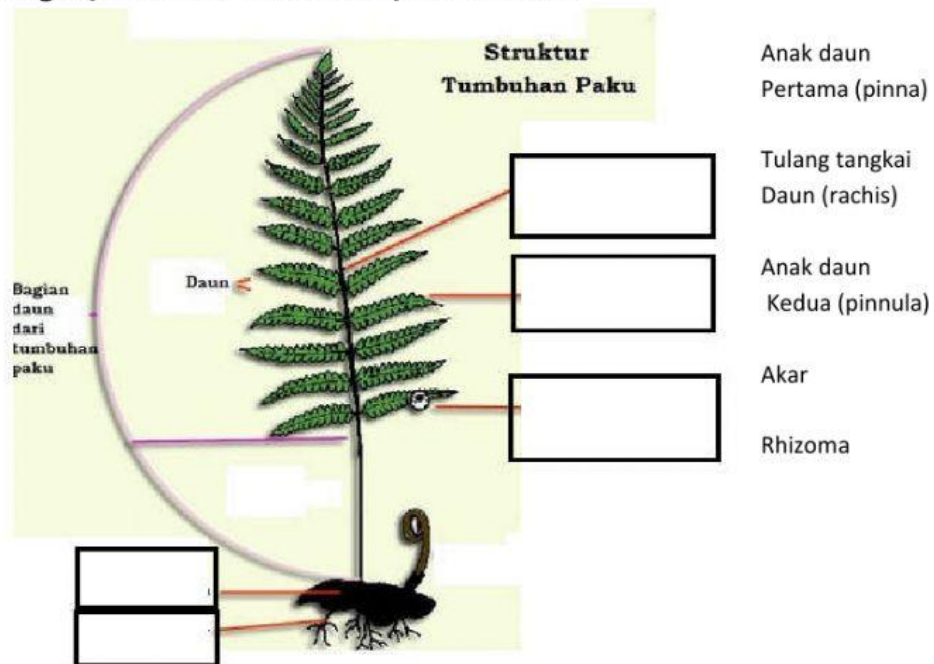
Nama :	
Kelas :	

3. Reproduksi Tumbuhan Paku

Simak Video berikut sampai selesai! (<https://youtu.be/dwAP8GRrVPY>)

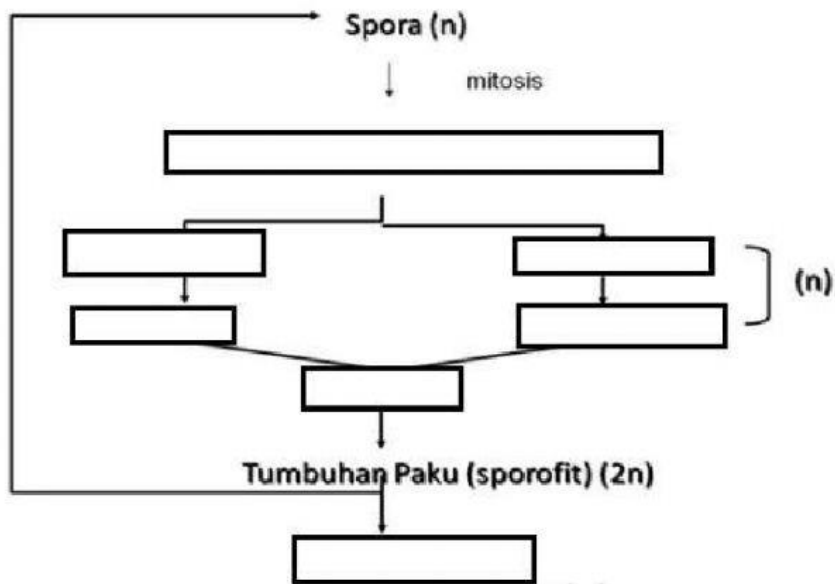
Sebutkan 4 contoh tumbuhan paku pada video tersebut!

Lengkapi struktur tumbuhan paku berikut!



Lengkapilah skema metagenesis tumbuhan paku berikut!

Metagenesis Tumbuhan Paku

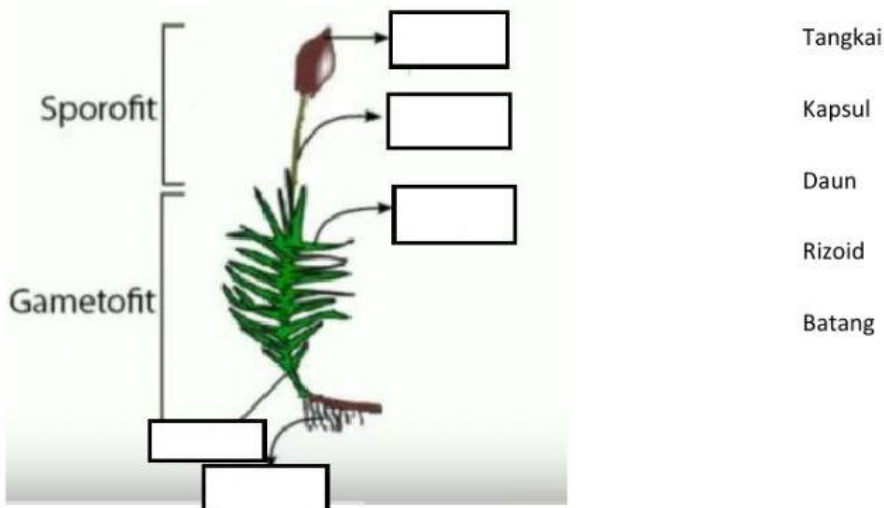


4. Reproduksi Tumbuhan Lumut

Simak Video berikut sampai selesai! (<https://youtu.be/j9LgsAcVS-Y>)

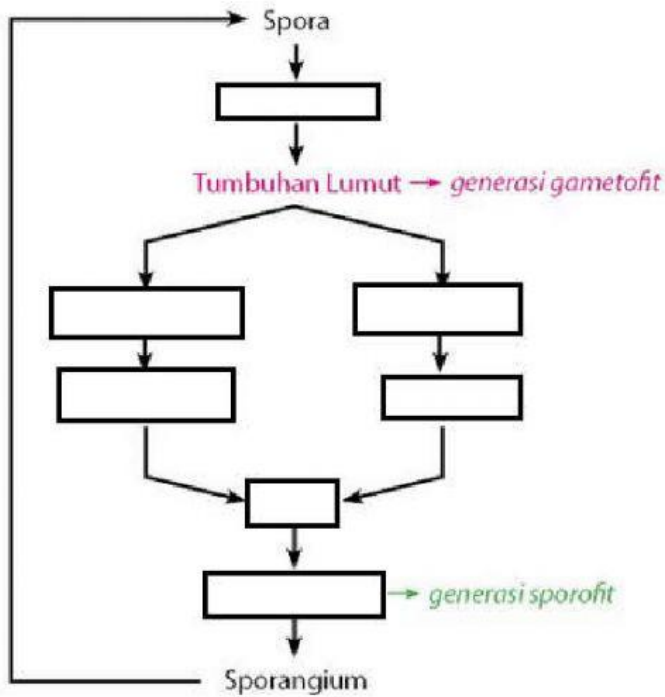


Lengkapi struktur lumut berikut!



Sebutkan 3 jenis lumut pada video tersebut!

Lengkapi daur hidup lumut berikut!

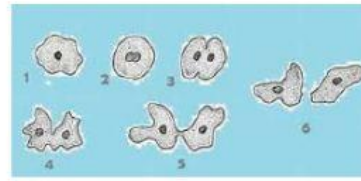
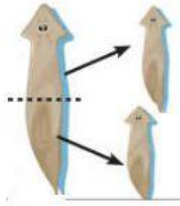


5. Teknologi Reproduksi pada Tumbuhan



B. Reproduksi pada Hewan


Tentukan jenis perkembangbiakan hewan berikut!



3. Siklus Hidup Hewan

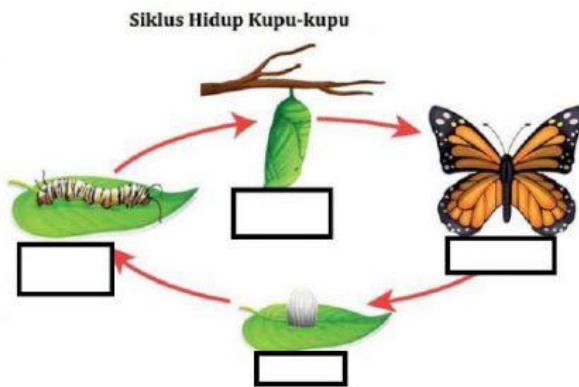
Metamorfosis sempurna

Lengkapi metamorfosis pada gambar katak berikut!



Sumber: www.dreamstime.com
Gambar 2.50 Metamorfosis Katak

Lengkapi metamorfosis pada gambar kupu-kupu berikut!



Siklus Hidup Kupu-kupu

Metamorfosis Tidak Sempurna

Lengkapi metamorfosis pada gambar berikut!

