





## LKPD

### Persebaran, Flora dan Fauna di Dunia

Tentukanlah benar atau salah pernyataan berikut !!!

No	Pernyataan	Benar	Salah
1	 <p>Gambar tersebut merupakan bioma Taiga yang memiliki suhu mencapai 90°F atau lebih pada musim panas</p>		
2	Bioma Tundra adalah kawasan yang berada di sekitar kutub utara dan sebagian di kutub selatan yang hampir setiap wilayahnya ditutupi salju		
3	 <p>Gambar tersebut memiliki curah hujan rendah yang mencapai 25 - 50 cm/tahun</p>		
4	Bioma Gurun mengalami evaporasi (penguapan) lebih rendah daripada presipitasi (hujan)		
5	Sarana yang digunakan sebagai media dalam persebaran fauna adalah udara, air, lahan dan pengangkutan manusia		
6	 <p>Gambar tersebut merupakan jenis fauna Ethiopia</p>		
7	Iklim yang meliputi cuaca, suhu, kelembapan, dan relief permukaan bumi merupakan persebaran fauna melalui faktor biotic		
8	<i>Hygrophyta</i> , yaitu jenis tumbuhan yang sangat cocok hidup di daerah yang basah, seperti teratai, eceng gondok, dan selada air.		
9	<i>Xerophyta</i> , yaitu jenis-jenis tumbuhan yang mampu beradaptasi terhadap daerah yang mengalami perubahan musim hujan dan musim kemarau. <i>Tropophyta</i> merupakan flora khas wilayah iklim musim tropik (monsun tropis), misalnya jati dan ekaliptus.		
10	 <p>Peta yang diberi tanda panah adalah wilayah persebaran fauna Palearctic</p>		