










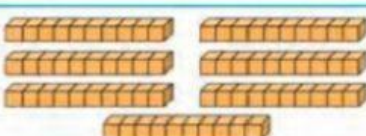

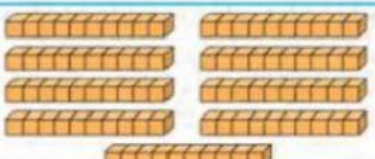


ESCOLA: \_\_\_\_\_ 2º ano

ALUNA(O): \_\_\_\_\_

PROFESSORA: \_\_\_\_\_ DATA \_\_\_\_\_

**1** OBSERVE QUE, NO MATERIAL DOURADO, CADA  (BARRA) É FORMADA POR 10  (CUBINHOS). EM SEGUIDA, COMPLETE.

 OU  10 UNIDADES OU <b>DEZ</b> 1 DEZENA	 2 DEZENAS OU <b>VINTE</b> 20 UNIDADES
 3 DEZENAS OU <b>TRINTA</b> 30 UNIDADES	 4 DEZENAS OU <b>QUARENTA</b> 40 UNIDADES
 5 DEZENAS OU <b>CINQUENTA</b> 50 UNIDADES	 6 DEZENAS OU <b>SESSENTA</b> 60 UNIDADES
 7 DEZENAS OU <b>SETENTA</b> 70 UNIDADES	 8 DEZENAS OU <b>OITENTA</b> 80 UNIDADES
 9 DEZENAS OU <b>NOVENTA</b> 90 UNIDADES	