





## SAINS TAHUN 6 – BURUJ

Lengkapkan maklumat tentang Buruj-buruj di bawah dengan menggunakan pilihan jawapan disediakan.

Selatan	Utara	Layang-layang
Senduk	Kala jengking	Pemburu
Biduk	Belantik	Skorpio

	<p>Nama Buruj _____</p> <p>Menunjuk arah _____</p> <p>Berbentuk _____</p>
 <p><small>shutterstock.com - 1478057927</small></p>	<p>Nama Buruj _____</p> <p>Menunjuk arah Utara</p> <p>Berbentuk _____</p>
	<p>Nama Buruj _____</p> <p>Menunjuk arah Selatan</p> <p>Berbentuk _____</p>
	<p>Nama Buruj Pari</p> <p>Menunjuk arah _____</p> <p>Berbentuk _____</p>