

**Nama Peserta Didik :**

**Nomor Absen :**

**LK T2 ST1 PB5**



**Simaklah Video Pembelajaran berikut :**

**Lagu Indonesai Raya:**

**Lagu Mars PPK:**

**Isi Absennya ya :**

**Klik disini untuk isi absen ya**

## Olahraga Kegemaran

1.

Siti suka berlari.

Lani suka bersepeda.

Edo suka sepak bola.

Dayu suka berenang.

Beni dan Udin suka olahraga kasti.

Olahraga kegemaran mereka berbeda.

Tetapi mereka sering berolahraga bersama.



Siapa yang suka olahraga renang?

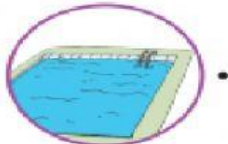
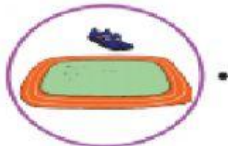
Olahraga apakah yang disukai Lani?

Apa yang sering mereka lakukan bersama-sama?

2.

Pasangkanlah gambar anak dengan olahraga kegemarannya.

Pasangkan sesuai dengan teks Olahraga Kegemaran!



3.



Dapatkah kamu menghitung jumlah pemain dalam pertandingan basket?

Tuliskan hitunganmu dalam kalimat matematika.

$$\bigcirc + \bigcirc = \bigcirc$$

4.

Hitunglah pemain dan benda pada gambar berikut!

Ikuti contoh di atas dengan tepat!



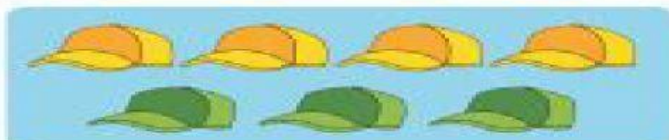
$$\bigcirc + \bigcirc = \bigcirc$$



$$\square + \square = \square$$



$$\square + \square = \square$$



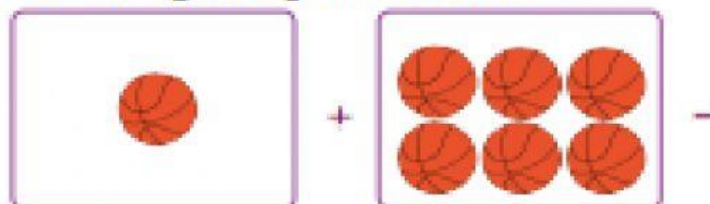
$$\square + \square = \square$$



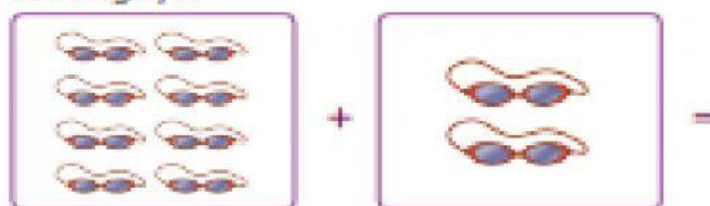
$$\square + \square = \square$$

5. Selesaikan soal cerita di bawah ini dengan tepat!

1. Lani diberi tugas merapikan bola. Mari bantu Lani menghitung bola basket.



2. Dayu mengoleksi kaca mata renang sejak TK. Mari bantu Dayu menghitung kaca mata renangnya.



3. Siti dan kawan-kawan akan bermain simpai. Siti memastikan jumlah simpai cukup. Bantu Siti menghitung simpai-simpai untuk temannya.

