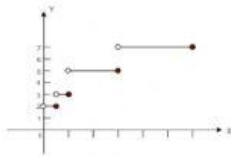


แบบทดสอบ

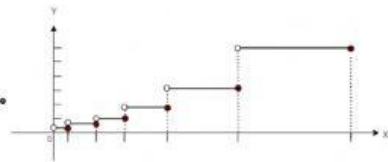
คำชี้แจง ให้นักเรียนเลือกคำตอบที่ถูกต้องที่สุดเพียงข้อเดียว

1. ข้อใดคือกราฟของฟังก์ชันขั้นบันไดต่อไปนี้ $f(x) = \begin{cases} 4, & 0 < x \leq 6 \\ 6, & 6 < x \leq 8 \\ 8, & 8 < x \leq 10 \end{cases}$

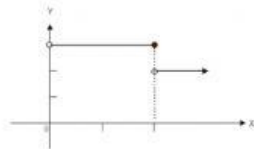
ก.



ข.



ค.



ง.

