

Escola: _____

Nome: _____

Data: ____/____/____

Atividade de Matemática - 2º ano

1- OBSERVE COM MUITA ATENÇÃO AS PLACAS ABAIXO. ASSOCIE CORRETAMENTE COM AS FRASES E FAÇA O QUE SE PEDE DE ACORDO COM SEUS FORMATOS:

3-



B)



C)



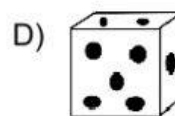
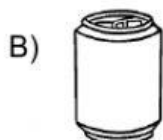
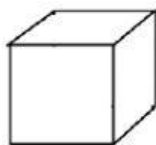
D)



- () LAVE AS MÃOS
- () USO OBRIGATÓRIO DE MÁSCARA
- () PROIBIDO APERTAR AS MÃOS
- () HIGIENIZE AS MÃOS COM ÁLCOOL EM GEL

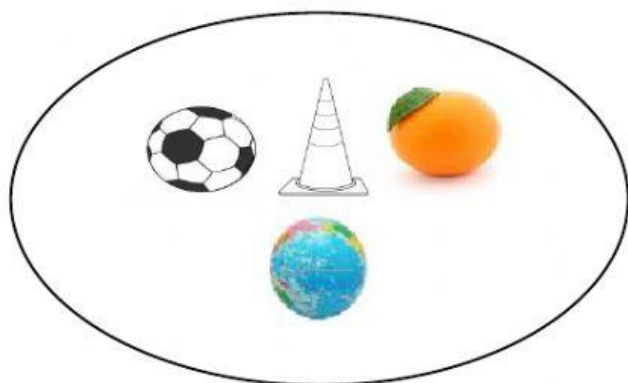
- 1) PINTE DE AZUL A PLACA QUE TEM O FORMATO DE UM RETÂNGULO.
- 2) FAÇA UM X NA PLACA QUE REPRESENTA UM CÍRCULO.
- 3) CIRCULE A PLACA QUE SEJA UM TRIÂNGULO.
- 4) PINTE DE AMARELO A PLACA QUE TENHA UM FORMATO DE QUADRADO.

2- MARQUE UM "X" NO QUADRADRINHO DO OBJETO QUE REPRESENTA A FORMA DO CUBO:




3- CIRCULE NOS GRUPOS ABAIXO O ÚNICO OBJETO INTRUSO EM RELAÇÃO ÀS FIGURAS GEOMÉTRICAS ESPACIAIS:

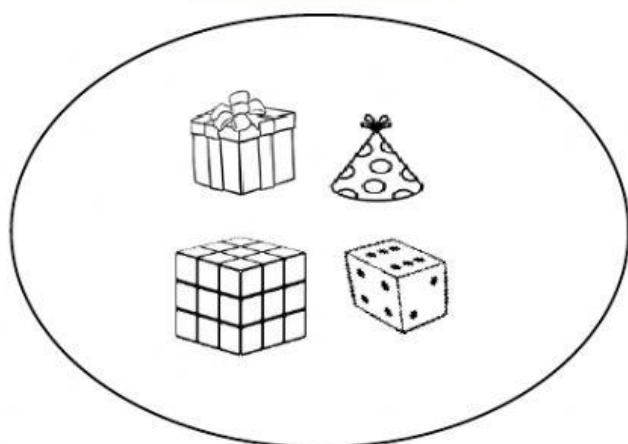
ESFERAS



CONES



CUBOS



PARALELEPÍPEDOS

