

Nama Peserta Didik :

Tema 1 St 2 Pb 3,4

Nomor Absen :

Simak video dibawah ini yaaa.....

Video Pb 3

Video Pb 4

Jangan lupa isi absen

Klik link absen disini

1. Berdasarkan peta persebaran kepadatan penduduk pada halaman 77, isilah table dibawah ini.

No.	Pertanyaan	Jawaban
1.	Pulau manakah yang paling padat penduduknya di Indonesia?	
2.	Pulau manakah yang paling sedikit penduduknya di Indonesia?	
3.	Berapakah jumlah kepadatan penduduk Provinsi Lampung?	
4.	Berapakah jumlah kepadatan penduduk Provinsi Papua Barat?	
5.	Berapakah jumlah kepadatan penduduk Provinsi tempat tinggalmu?	

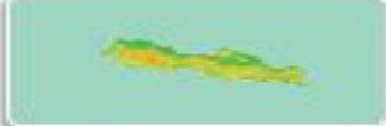



















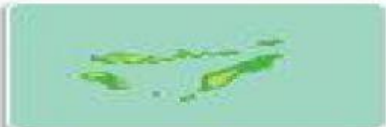











2. Berilah tanda centang dibawah ini yang termasuk hal-hal yang dilakukan sebelum memulai wawancara.

- ☐ Tentukan tempat dan waktu wawancara
- ☐ Tentukan korespondennya
- ☐ Tentukan masing-masing anggota
- ☐ Mengucapkan terima kasih
- ☐ Siapkan peralatan
- ☐ Susunlah pertanyaan-pertanyaan dengan baik

3. Tulislah ide pokok bacaan halaman 82-83.

Paragraf	Ide Pokok
1	Kerukunan umat beragama merupakan bentuk hubungan antarmanusia yang damai berkat adanya toleransi beragama
2	.....
3	.....

4. Pasangkanlah antara pulau dengan suku bangsa yang tepat dengan menarik garis.

5. Tulislah perilaku yang tidak sesuai dengan nilai-nilai Pancasila di lingkungan sekolah.

6. Lengkapi table bentang alam dibawah ini.

Kalimantan	a. Gunung : b. Lembah : c. Bukit : d. Sungai : e. Dataran rendah : f. Pantai :
Sulawesi	a. Gunung : b. Lembah : c. Bukit : d. Sungai : e. Dataran rendah : f. Pantai :
Papua	a. Gunung : b. Lembah : c. Bukit : d. Sungai : e. Dataran rendah : f. Pantai :

7. Berilah tanda centang pada gambar yang menunjukkan perilaku yang sesuai dengan nilai-nilai Pancasila.

