

MATEMÁTICA

OS AMIGOS DA ESCOLA ESTAVAM BRINCANDO DE OLIMPÍADAS.

DESCUBRA QUANTAS BOLAS CADA CRIANÇA ACERTOU NA CESTA E
ARRASTE O NÚMERO A QUANTIDADE CORRESPONDENTE.

7






3

5

8

6

4

CRIANÇAS	QUANTIDADE DE BOLAS NA CESTA	NÚMERO
CARLOS		
FELIPE		
PEDRO		
GIOVANI		
VÍTOR		
FÁBIO	