

Ubicación en el Plano Cartesiano

Un grupo de niños exploradores han llegado a la isla matemática para participar de una divertida excursión. El señor Tica, jefe de la isla les da la bienvenida.

Ellos deberán realizar algunos recorridos dentro de la isla para llegar a los lugares donde se realizarán las actividades propuestas en la excursión.

Sigue las indicaciones y lograrás identificar la posición final del grupo de exploradores después de hacer cada recorrido.

1.

Primer recorrido
para llegar a la
actividad de buceo.


Los exploradores empiezan en esta
posición: **(D, 5)**

Hacen el siguiente recorrido:



Terminarán en esta posición:

(,)




2.

Segundo desplazamiento
para llegar a la actividad de
recoger cocos.


Los exploradores empiezan en esta
posición: **(C, 3)**

Hacen el siguiente recorrido:



Terminarán en esta posición:

(,)




3.

Tercer trayecto para llegar a la actividad final,
la búsqueda del tesoro, de la expedición.

Los exploradores empiezan en esta posición: **(D, 1)**

Hacen el siguiente recorrido:



Terminarán en esta posición:

(,)

