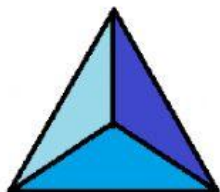



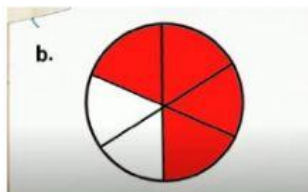


Bacalah setiap perintah dengan teliti!

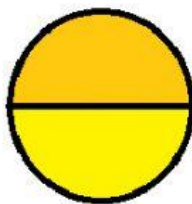
Dari gambar di bawah manakah yang lebih kecil, lebih besar atau sama dengan. Tentukan dengan menekan kemudian menjawab dengan kata "lebih kecil", "lebih besar" atau "sama dengan"



..... dari



..... dari



Perhatikan pecahan-pecahan berikut

Ambil dan letakkanlah pecahan-pecahan berikut pada kolom yang tersedia dengan tepat yang sesuai pernyataan !

$$\frac{2}{6} \text{ dan } \frac{3}{4}$$

..... <

$$\frac{4}{6} \text{ dan } \frac{6}{8}$$

..... >

$$\frac{5}{6} \text{ dan } \frac{1}{4},$$

..... lebih kecil dari

$$\frac{2}{8} \text{ dan } \frac{3}{8}$$

..... lebih besar dari

Ambilah dan letakkan pada kolom sesuai urutan dengan nilai pecahan terkecil

$$\frac{4}{8}, \frac{5}{8}, \frac{7}{8}, \frac{1}{8}$$

--	--	--	--

$$\frac{2}{5}, \frac{5}{8}, \frac{1}{3}, \frac{1}{8}$$

--	--	--	--

Ambil pecahan dan letakkan pada kolom sesuai dengan urutan nilai pecahan terbesar

$$\frac{2}{8}, \frac{3}{4}, \frac{1}{2}$$

--	--	--

$$\frac{3}{5}, \frac{5}{7}, \frac{1}{2}$$

--	--	--