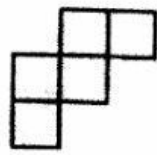
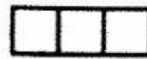


3. ในแต่ละข้อต่อไปนี้ กำหนดภาพด้านบน ภาพด้านหน้า และภาพด้านข้าง ของรูปเรขาคณิตสามมิติ ที่ประกอบขึ้นจากลูกบาศก์รูปหนึ่ง จงเลือกรูปเรขาคณิตสามมิติที่สอดคล้องกับภาพทั้งสามที่กำหนดให้

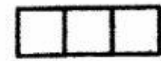
1)



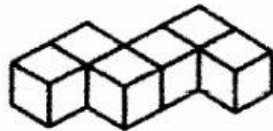
ภาพด้านบน



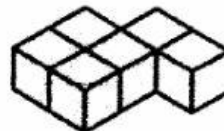
ภาพด้านหน้า



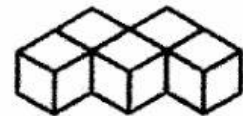
ภาพด้านข้าง



ก.

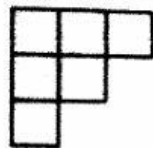


ข.

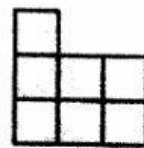


ค.

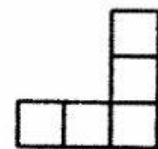
2)




ภาพด้านบน



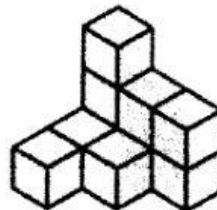
ภาพด้านหน้า



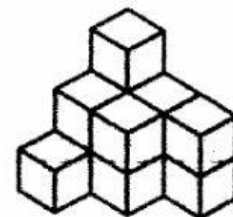
ภาพด้านข้าง



ก.

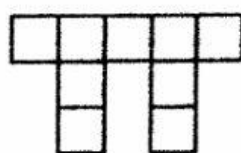


ข.

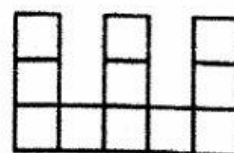


ค.

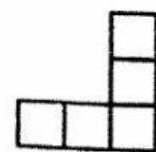
3)



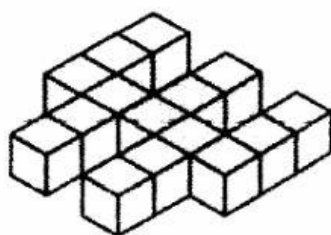
ภาพด้านบน



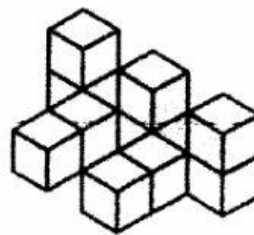
ภาพด้านหน้า




ภาพด้านข้าง



ก.



ข.



ค.