

Nome	Ano/ Turma:	Professor	Data
------	-------------	-----------	------

Medidas de tempo

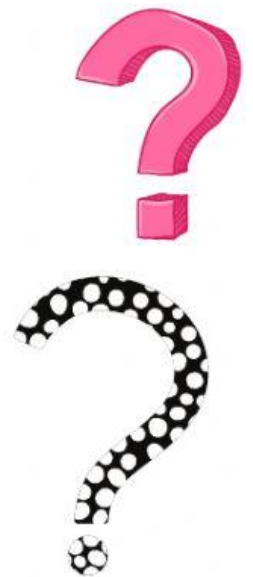


1- E você o que faz durante o dia?

2- Qual o dia, o mês e o ano que você nasceu?



Vamos brincar de adivinhas?



Dá voltas e mais voltas e nunca muda de lugar?

Qual o mês mais curto do ano?

O que é, o que é? Perdido uma vez, nunca mais se acha?


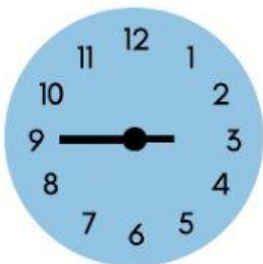
O que é, o que é? Ontem será amanhã será ontem.



Clube de Babás

Helena, Júlia, Bia e Larissa lançaram um clube de babás no bairro. Para dividir o faturamento, elas decidiram basear os cálculos de acordo com o tempo que trabalharam. Ajude-as a escrever o horário em que cada uma começou e terminou, bem como quanto tempo elas trabalharam.

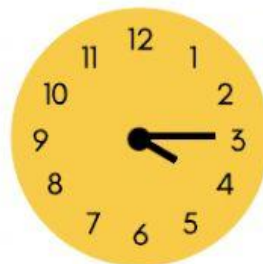
Helena



Início: _____ Fim: _____

Tempo Total Trabalhado: _____


Júlia



Início: _____ Fim: _____

Tempo Total Trabalhado: _____

Bia



Início: _____ Fim: _____

Tempo Total Trabalhado: _____

Larissa



Início: _____ Fim: _____

Tempo Total Trabalhado: _____