

LEIA COM ATENÇÃO:

DEZENA

VOCÊ SABE O QUE É DEZENA?

NÃO? MAS OH QUE PENA!

VOU TE ENSINAR AGORA

BATE PALMAS E ACENA!

CONTA UM,

CONTA DOIS,

CONTA TRÊS

QUATRO, CINCO, SEIS,

SETE, OITO, NOVE

CONTA DEZ DE UMA VEZ!





VOCÊ CONTOU DEZ

LIGA ESTA ANTENA

CADA 10 UNIDADES

VALE 1 DEZENA!

2- MARQUE UM X NO CONJUNTO COM UMA DEZENA:

3) DAVI SEPAROU COM UMA LINHA 1 DEZENA DE BALAS PARA DIVIDIR COM SEUS COLEGAS.



A) CADA BALA REPRESENTA 1 UNIDADE. QUANTAS UNIDADES ELE SEPAROU COM UMA LINHA?

13 UNIDADES 10 UNIDADES 16 UNIDADES

B) 10 UNIDADES EQUIVALEM A QUANTAS DEZENAS?

10 DEZENAS 9 DEZENAS 1 DEZENA

C) QUANTAS UNIDADES DE BALAS FICARAM PARA FORA DA LINHA?

10 UNIDADES 6 UNIDADES 3 UNIDADES

D) QUANTAS BALAS DAVI TEM NO TOTAL?

10 BALAS 6 BALAS 16 BALAS

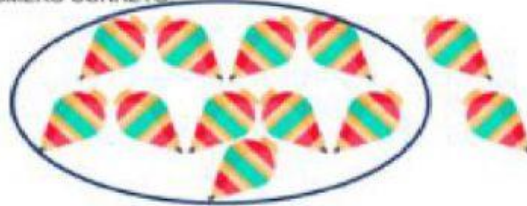
E) COMPLETE A FRASE ARRASTANDO AS PALAVRAS.

UNIDADES

DEZENA

DAVI TEM 1 _____ E 6 _____ DE BALAS.

4) A PROFESSORA CIRCULOU 10 PIÕES. AGORA CONTE TODOS OS PIÕES E COMPLETE A FRASE ABAIXO ARRASTANDO O NÚMERO CORRETO.



FORAM CIRCULADOS PIÕES OU DEZENA DE PIÕES.

1


9

12

10

10

5) A PROFESSORA CERCOU COM UMA LINHA 10 FLORES. AGORA CONTE TODAS AS FLORES E COMPLETE A FRASE ABAIXO ARRASTANDO O NÚMERO CORRETO.



HÁ DEZENA DE FLORES MAIS FLORES.

10

5

12

1

15

6) LIGUE CADA ENGRADADO AMARELO A UM ENGRADADO VERMELHO CORRESPONDENTE PARA JUNTAR 10 GARRAFAS.



AGORA VOCÊ É UM....



POIS FEZ TODA ATIVIDADE!