

Nama :
















Tarikh :

### 1.1.2 Menentukan Nilai Nombor


Arahan: Padankan setiap nilai nombor dengan nombor yang betul.

Petunjuk	 10	 1
----------	---	--

#### NILAI NOMBOR

a)			
b)			
c)			
d)			
e)			

#### NOMBOR

	tiga puluh lima
	tiga puluh lapan
	lapan puluh sembilan
	empat puluh enam
	dua puluh enam