




ESCOLA ESTADUAL DE ENSINO MÉDIO PROFª CELIA FLORES LAVRA PINTO
TRavessa Adolfo Sampaio Bittencourt, 225 - Lomba Taruma, Viamão - RS


ATIVIDADE DE GEOGRAFIA

Profª Eunice Serpa - NOME: _____ TURMA: _____

1- Assinale a imagem que não está relacionada aos paralelos e meridianos.



2- Assinale a alternativa com a Latitude correta de cada ponto.



Ponto A

Latitude 90° S

Latitude 45°N

Latitude 30° N

Ponto B

Latitude 60° S

Latitude 30°N

Latitude 90° S

Ponto C

Latitude 30° S

Latitude 30°N

Latitude 15° S

Ponto D

Latitude 75°N

Latitude 30°S

Latitude 90° S

3- Arraste as palavras que completam corretamente os espaços.

Os meridianos são linhas que indicam as

e são numerados de 0° a , nos hemisférios e

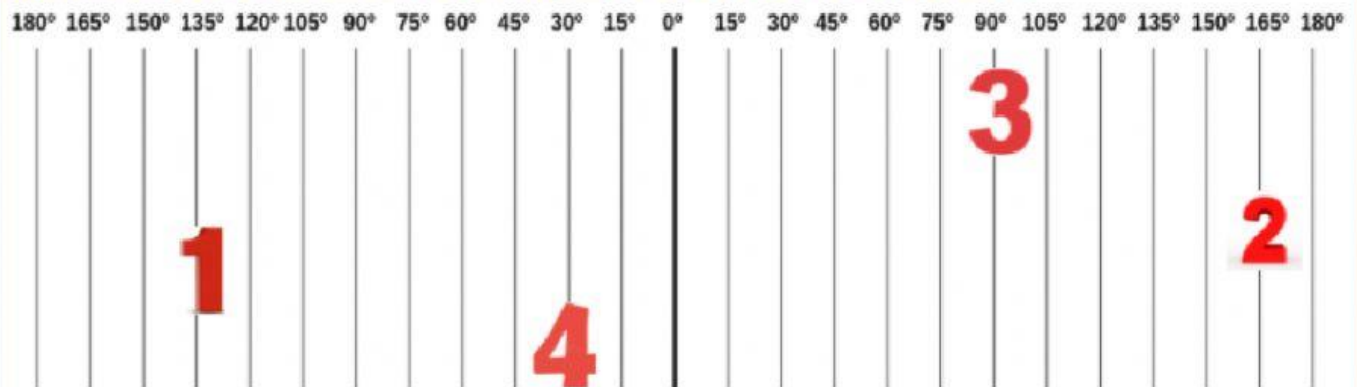
.

Os paralelos são linhas que indicam as

e são numerados de 0° a , nos hemisférios e

Latitudes	180°	Sul	Leste	Verticais
Longitudes	90°	Oeste	Norte	Horizontais

4- Assinale a alternativa com a Longitude correta de cada ponto.



Ponto 1

Longitude $90^\circ O$ Longitude $135^\circ O$ Longitude $165^\circ O$

Ponto 2

Longitude $165^\circ L$ Longitude $180^\circ L$ Longitude $0^\circ O$

Ponto 3

Longitude $90^\circ O$ Longitude $135^\circ O$ Longitude $90^\circ L$

Ponto 4

Longitude $30^\circ O$ Longitude $135^\circ O$ Longitude $105^\circ O$

Profª Eunice Serpa