

ACTIVIDAD N° 03

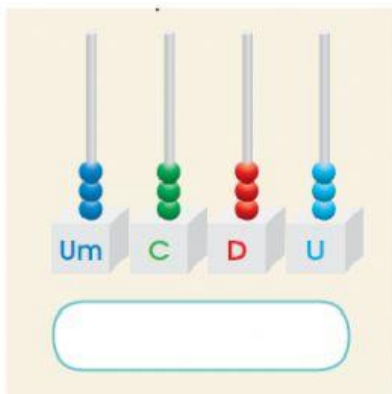
Completar la tabla aplicando la descomposición de cantidades

Descomposición	Valor relativo				Descomposición en base 10
	UM	C	D	U	
3UM + 4C + 2D + 1U					3 000 + 400 + 20 + 1
	6	3	8	6	
	4	8	9	3	

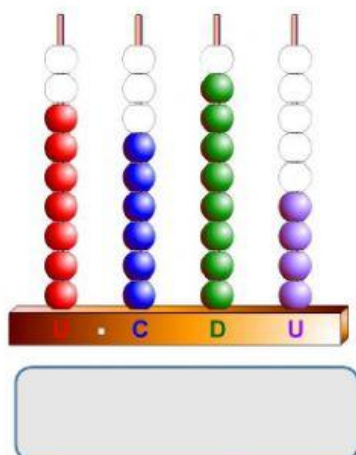
Observar las cantidades y escribir en letras el número que corresponde.

1	8562	
2	9311	
3	5780	

Observar el ábaco, descubrir la cantidad y escribir según corresponda a cada uno.



Se lee:



Se lee:

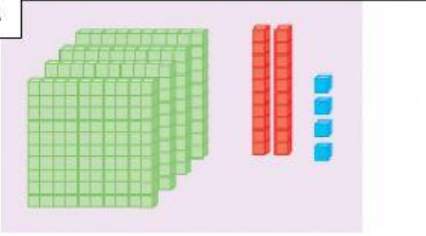
Lcda. Verónica Loja

Observar la escritura de los números y completar según corresponde.

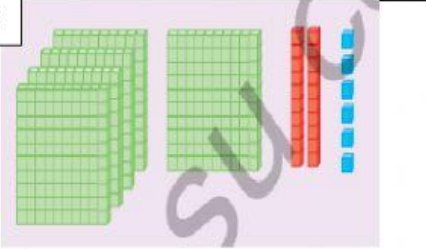
	Tres mil cuatrocientos treinta y dos
	Mil seiscientos siete

Resolver las operaciones y completar en los recuadros correspondientes

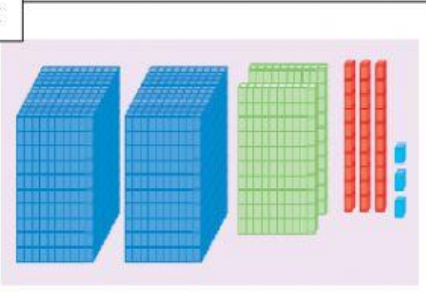
A



B



C



A

B

C

Visualizar la descomposición de los números y completar la tabla de la composición.

Descomposición	Composición
$3000 + 200 + 50 + 8$	3258
$5000 + 700 + 30 + 2$	
$9000 + 600 + 40 + 5$	
$1000 + 40 + 2$	