


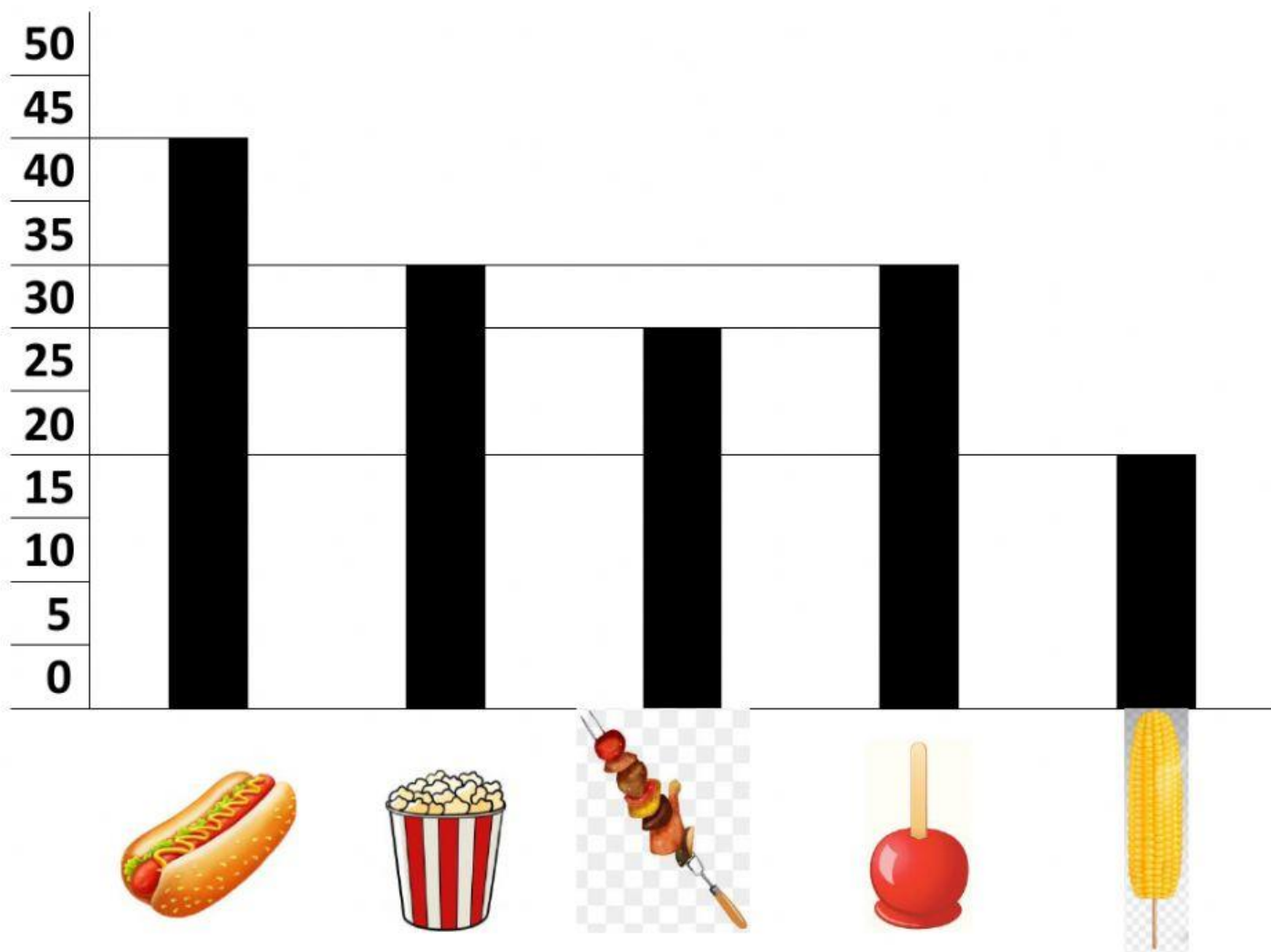
ASSISTA AO VÍDEO ABAIXO ANTES DE INICIAR AS ATIVIDADES:



AGORA, PROCURE NO CAÇA-PALAVRAS, 10 COMIDAS TÍPICAS DE FESTAS JUNINAS:



O GRÁFICO ABAIXO APRESENTA AS COMIDAS MAIS VENDIDAS EM UMA FESTA JUNINA. OBSERVE-O COM ATENÇÃO PARA RESPONDER ÀS QUESTÕES QUE SE SEGUEM:




QUAL FOI O PRODUTO MAIS VENDIDO?

QUE PRODUTOS FORAM VENDIDOS EM QUANTIDADES IGUAIS?

QUANTOS PRODUTOS FORAM VENDIDOS AO TODO?

QUE PRODUTO FOI O MENOS VENDIDO?


QUANTOS CHURRASQUINHOS FORAM VENDIDOS?

SE CADA  FOI VENDIDO POR R\$ 3,00, QUANTO FOI ARRECADADO COM A VENDA DE CACHORRO-QUENTE?

R\$ 120,00	R\$ 135,00	R\$ 90,00
------------	------------	-----------

SE, COM A VENDA DE CHURRASQUINHOS, FORAM ARRECADADOS 120 REAIS, QUANTO CUSTOU CADA  ?


R\$ 5,00	R\$ 3,00	R\$ 4,00
----------	----------	----------

UMA PESSOA PEDIU 6 PIPOCAS. PAGOU COM UMA NOTA DE R\$ 20,00 E RECEBEU R\$ 5,00 DE TROCO. QUAL O PREÇO DE CADA  ?

R\$ 3,00	R\$ 2,50	R\$ 2,00
----------	----------	----------

CADA  CUSTAVA R\$ 3,50. UMA MOÇA COMPROU 5 DELAS. QUANTO ELA GASTOU COMPRANDO MAÇÃS DO AMOR?

R\$ 17,50	R\$ 15,50	R\$ 16,50
-----------	-----------	-----------

O VENDEDOR DE  COMEÇOU A VENDA COM 20 REAIS EM MOEDAS PARA FACILITAR O TROCO. AO FINAL DA FESTA, ELA ESTAVA COM 80 REAIS. POR QUANTO ELE VENDEU CADA MILHO?

R\$ 5,00	R\$ 4,00	R\$ 3,00
----------	----------	----------