

Nome:

Números inteiros – Exercícios

Assista à resolução de um exemplo no vídeo.

Agora é com você! Faça a resolução do exercício no caderno e escreva apenas o resultado final no quadrinho.

1. Uma pessoa tem R\$ 820,00 na sua conta bancária e faz, sucessivamente, as seguintes operações bancárias:

- Retirada R\$ 580,00
- Depósito R\$ 120,00
- Retirada R\$ 490,00

Após todas essas operações, o saldo final dessa pessoa fica positivo ou negativo?

Qual o valor do saldo após essas operações? R\$

2. Uma pessoa tem R\$ 600,00 em sua conta bancária e faz, sucessivamente, as seguintes operações:

- retira R\$ 73,50;
- deposita R\$ 18,30;
- retira R\$ 466,90;
- retira R\$ 125,00.

O saldo final fica positivo ou negativo?
Em quantos reais? R\$

Assista à resolução de um exemplo no vídeo.

3. Calcule:

a) $-7 + 6 =$

b) $10 - 2 =$

c) $-8 - 7 =$

d) $-1 - 0 =$

e) $-8 + 12 =$

f) $-2 - 4 =$

g) $-15 + 10 =$

h) $-8 + 6 =$

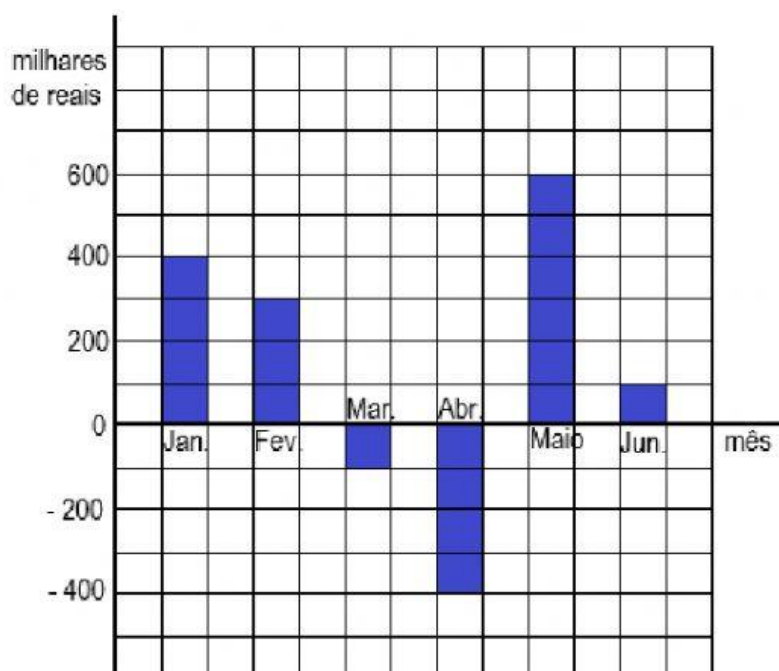
i) $45 - 5 =$

j) $-30 + 50 =$

k) $-3 - 2 =$

l) $-3 + 1 =$

4. O gráfico de colunas mostra o saldo do caixa (positivo ou negativo) de uma confecção em cada mês do primeiro semestre de certo ano.



Análise o gráfico, leia as perguntas e marque um X nas respostas corretas.

4.1. Em quais meses a empresa teve saldo positivo?

a) Jan b) Fev c) Mar d) Abril e) Maio f) Junho

4.2. Em quais meses a empresa teve saldo negativo?

a) Jan b) Fev c) Mar d) Abril e) Maio f) Junho

4.3. Em que mês a empresa apresentou o melhor resultado?

a) Jan b) Fev c) Mar d) Abril e) Maio f) Junho

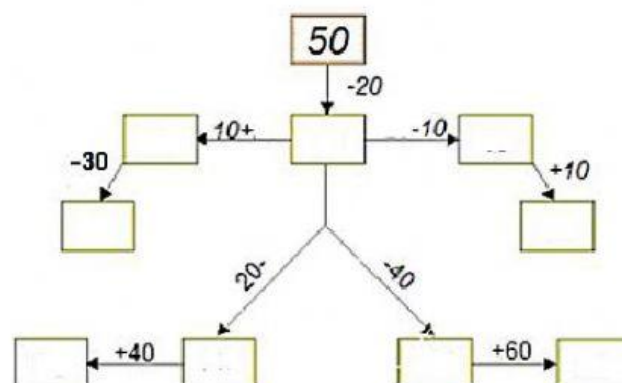
4.4. Em que mês a empresa apresentou o pior resultado?

a) Jan b) Fev c) Mar d) Abril e) Maio f) Junho

4.5 Qual é a diferença entre o melhor saldo e o pior saldo?

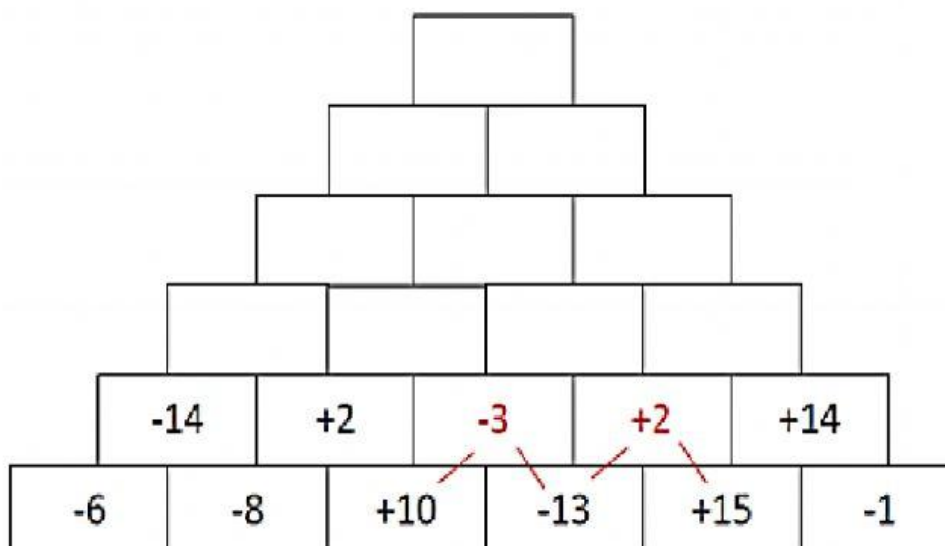
Assista à resolução de um exemplo no vídeo.

5. Efetua as operações indicadas e completa corretamente os quadrinhos



Assista à resolução de um exemplo no vídeo

6. Descubra o valor no topo da pirâmide! Você precisa completar cada bloco da pirâmide conforme o modelo.



Observe: $+10 - 13 = -3$