

Nama:


Kelas : 3 Jujur

SK : 6.1 PENGUKURAN LUAS DAN ISI PADU

SP : 6.1.2 Mengukur luas permukaan sekata menggunakan petak yang berukuran 1cm x 1cm. (TP3)

B. Nyatakan luas permukaan-permukaan berikut yang diukur dengan petak 1 cm .


(a) Permukaan kulit buku



(i) Bilangan petak 1 cm² yang diguna:

(ii) Luas permukaan kulit buku = _____ cm²


(b) Permukaan jam segi empat sama



(i) Bilangan petak 1 cm² yang diguna:

(ii) Luas permukaan muka jam = _____ cm

(c) Permukaan pemadam segi empat tepat



(i) Bilangan petak 1 cm² yang diguna:

(ii) Luas permukaan pemadam = _____ cm