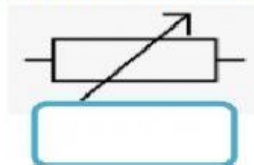
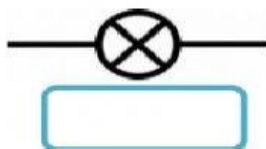
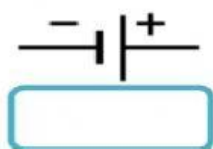
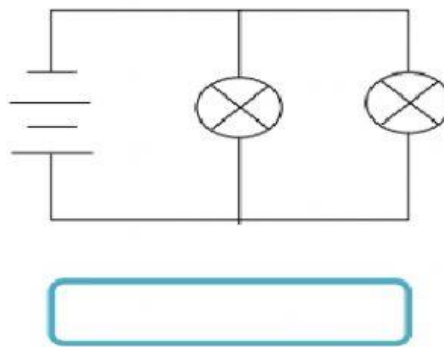
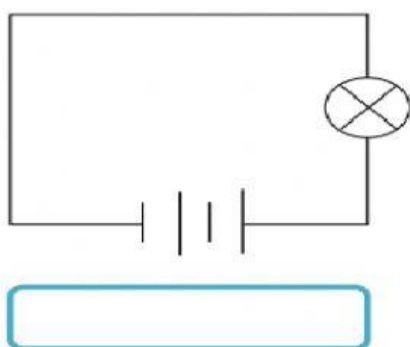


1. Labelkan komponen-komponen elektrik ini dengan jawapan yang betul.



2. Labelkan jenis litar di bawah dengan betul.



3. Nilai arus dalam litar adalah sama.
4. Nilai voltan dalam litar adalah sama.
5. Jika satu mentol di dalam litar rosak, mentol yang lain boleh berfungsi seperti biasa.
6. Kecerahan semua mentol dalam litar akan bertambah apabila bilangan sel kering ditambah.
7. Kecerahan mentol tidak akan berubah sekiranya bilangan sel kering ditambah secara .
8. Sistem pendawaian di rumah dipasang secara .