



PREFEITURA  
**Barra  
Mansa**

PREFEITURA MUNICIPAL DE BARRA MANSA  
SECRETARIA MUNICIPAL DE EDUCAÇÃO  
GERÊNCIA DE EDUCAÇÃO BÁSICA



**BMEducação**  
PLATAFORMA DE ENSINO

UNIDADE ESCOLAR: \_\_\_\_\_

NOME: \_\_\_\_\_ DATA: \_\_\_\_\_

COMPONENTE CURRICULAR – MATEMÁTICA/GEOMETRIA – PROFESSOR: SEBÁ


ENSINO FUNDAMENTAL II – 6º/7º ANO - 2021 TURMA: 700

SEMANA 17 – 28 a 02 /07/21

Trabalho de geometria Valor: 30 pontos

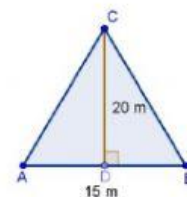
1- A área da figura abaixo é:

- a)  $120 \text{ cm}^2$       b)  $34 \text{ cm}^2$       c)  $32 \text{ cm}^2$       d)  $60 \text{ cm}^2$



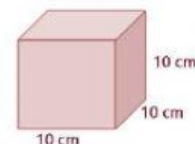
2- A área da figura abaixo é:

- a)  $300 \text{ m}^2$       b)  $100 \text{ m}^2$       c)  $150 \text{ m}^2$       d)  $200 \text{ m}^2$



3- O volume do cubo abaixo é:

- a)  $1000 \text{ cm}^3$       b)  $10 \text{ cm}^3$       c)  $100 \text{ cm}^3$       d) 200l



4- Quantos litros de água cabem em uma caixa cúbica de aresta medindo 2 m?

- a) 1500 l      b) 1000 l      c) 2 000 l      d) 8 000 l

$1 \text{ m}^3 = 1000 \text{ litros}$

5- Qual é o volume do sólido abaixo?

- a)  $216 \text{ cm}^3$       b)  $36 \text{ cm}^3$       c)  $64 \text{ cm}^3$       d)  $12 \text{ cm}^3$

