


\_\_\_\_\_

\_\_\_\_\_

\_\_\_\_\_

\_\_\_\_\_



Je situe les nombres jusque 20

1. **Relie.**

dix      douze      treize      vingt

dix-sept      dix-huit

10 11 12 13 14 15 16 17 18 19 20

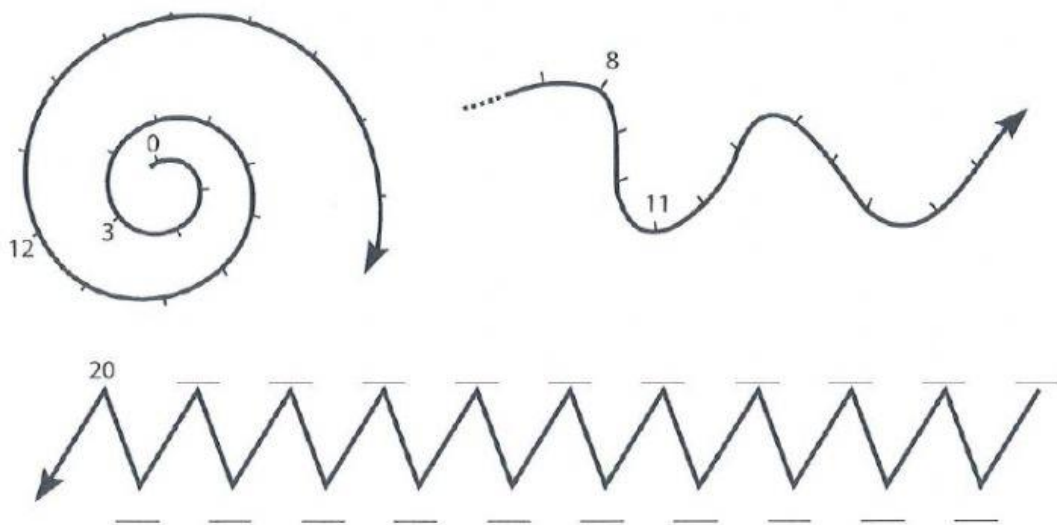
onze      quinze      dix-neuf

quatorze      seize

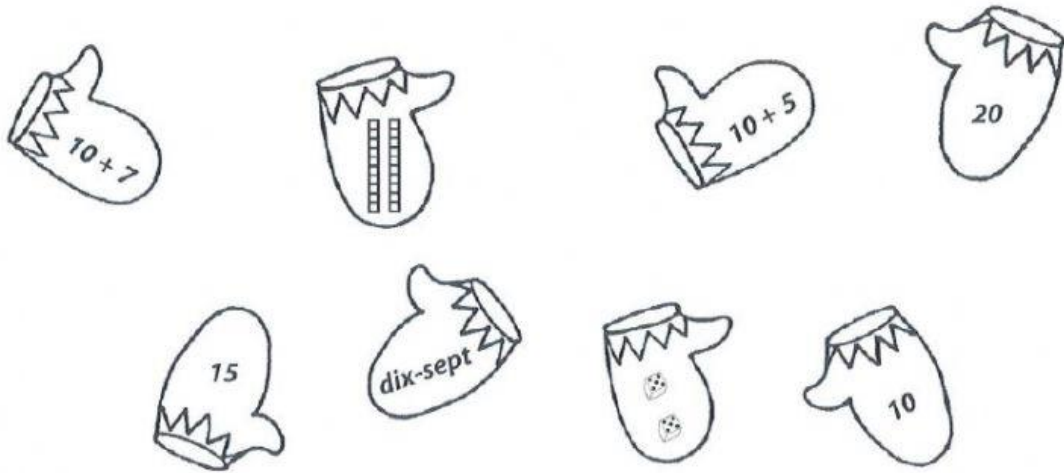
2. **Complète** les suites de nombres.

10	11				15	16			17	18		
	14					11			15			
			20			17			9			

3. **Complète** les suites de nombres.



4. **Retrouve** les paires qui ont la même valeur. **Colorie**-les d'une même couleur.



5. **Complète** les écharpes.

