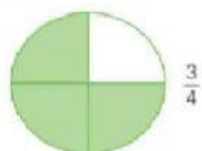
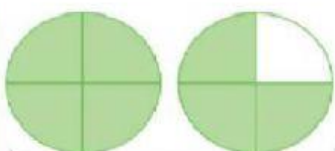


■ Osserva.



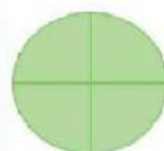
$$\frac{3}{4}$$

È una frazione propria.
È minore di un intero.



$$\frac{7}{4}$$

È una frazione impropria.
È maggiore di un intero.




$$\frac{4}{4} = 1$$

È una frazione apparente.
È uguale a un intero.

■ Scrivi la frazione corrispondente.



4



—



—

■ Colora le parti indicate da ogni frazione e scrivi se è propria, impropria o apparente.



$$\frac{3}{5}$$



$$\frac{8}{4}$$



$$\frac{7}{2}$$



$$\frac{9}{9}$$



$$\frac{2}{8}$$



$$\frac{10}{4}$$



$$\frac{8}{8}$$